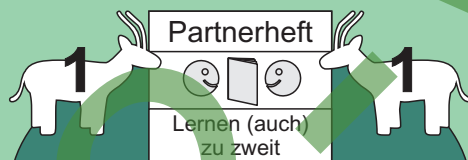


Mit Freude lernen!

Partnerhefte:
Lernen (auch) zu zweit

Übungen zum kleinen 1:1



Teilaufgaben zum
Einmaleins der 2
Heft 1

Lies deinem Partner / deiner Partnerin die 11 Aufgaben auf den folgenden 3 Seiten vor und überprüfe, ob seine / ihre Antworten richtig sind. Drehe anschließend das Heft um und lass dir dann von deinem Partner / deiner Partnerin die anderen 11 Aufgaben vorlesen.

A

Michael Junga

Für pffiffige
Rechenkinder
in den Klassen
2 und 3

Partnerhefte kleines 1:1

Zielgruppe

2. Klasse - 3. Klasse

Förderschwerpunkt

Mathematisches Denktraining

Aufgabe

Die Kinder stellen sich vier Partnerhefte selbst her. Jedes Heft enthält jeweils zwei Aufgabenblöcke mit zehn Einzelaufgaben. Jeweils zwei Kinder fragen sich nacheinander ab, indem das erste Kind die zwölf Einzelaufgaben des Hefteils A vorliest und das zweite Kind sie mündlich beantwortet. Anschließend wird dann gewechselt, indem das zweite Kind die Aufgaben aus Hefteil B vorliest.

A	4 geteilt durch 2 ist wie viel?	2
B	16 geteilt durch 2 ist wie viel?	8
C	8 geteilt durch 2 ist wie viel?	4
D	20 geteilt durch 2 ist wie viel?	10

(1a)

Alternative

Jedes der beiden Kinder hat das gleiche Partnerheft zur Hand. Sie fragen sich gegenseitig ab, indem Kind 1 den Hefteil A verwendet und Kind 2 den Hefteil B. Anschließend werden die Hefteile gewechselt: Kind 1 liest dann die Aufgaben aus Hefteil B vor und Kind 2 die aus Hefteil A.

Mathematischer Inhalt

Die Übungsvorlagen enthalten Kopfrechenaufgaben zum kleinen 1:1 in unterschiedlichen Aufgabenformen.

Nutzen

Die Kinder stärken ihre mathematische Denk- und Kombinationsfähigkeit sowie ihre soziale Kompetenz.

Materialumfang

1 Informationsblatt,
1 Faltpfad zur Herstellung der Partnerhefte,
40 Partnerhefte mit integrierten Lösungen.

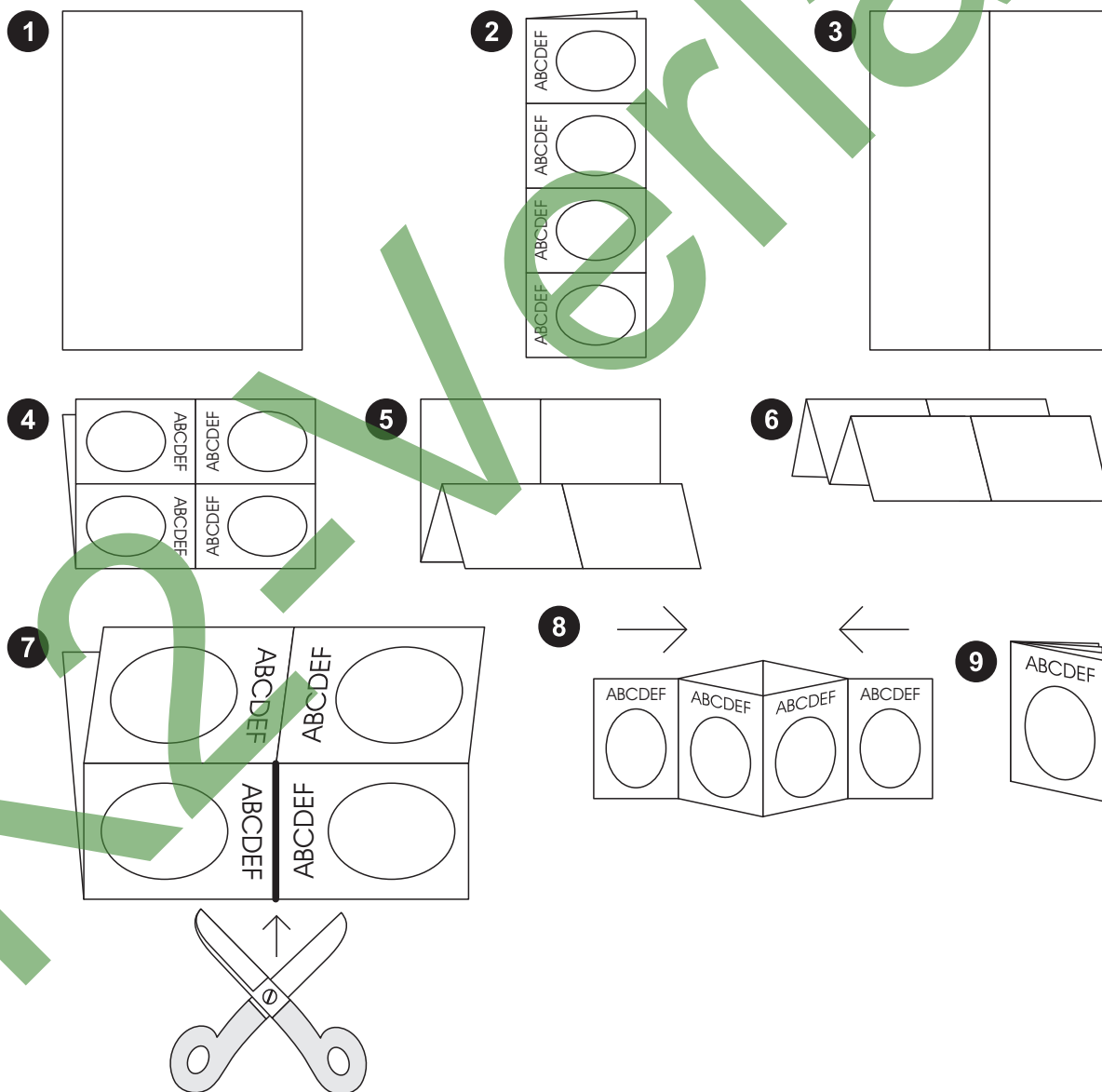
Faltplan für die Partnerhefte

Den detaillierten Faltpfad für die Partnerhefte entnehmen Sie bitte der folgenden Seite.

Partnerhefte kleines 1:1

Faltplan für die Partnerhefte

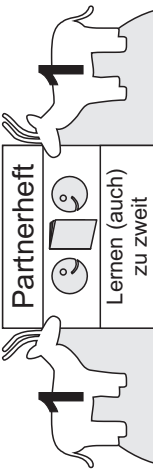
Die bedruckte Seite des Blattes wird auf den Tisch gelegt (1). Das Blatt wird einmal längs gefaltet (2), dann wieder aufgeklappt (3) und einmal quer gefaltet (4). Anschließend wird das Blatt zweimal an der Rückseite quer gefaltet (5 und 6). Danach wird mit einer Schere ein Schnitt von genau einer Feldbreite ausgeführt (7). Schließlich wird das Blatt an dieser Schnittkante auseinander gebogen, zusammengesoben (8) und die einzelnen Seiten zu einem Rätselbüchlein umgeklappt (9).



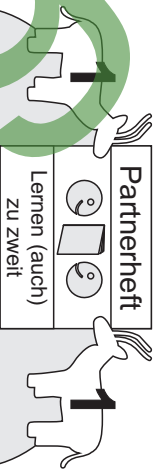
A

vorlesen.

Lies die Aufgaben der anderen Partnerin / des anderen Partners vor und lass dich dann von deinem Partner / deiner Partnerin die anderen 11 Aufgaben vorlesen.
 3 Seiten vor und von der anderen Partnerin / dem anderen Partner die Aufgaben auf den folgenden 3 Seiten vor und überprüfe, ob seine / ihre Antworten richtig sind. Drehe anschließend das Heft um und lass dich von deinem Partner / deiner Partnerin die anderen 11 Aufgaben vorlesen.
 Lies deine Aufgaben vor und lass dich dann von deinem Partner / deiner Partnerin die anderen 11 Aufgaben vorlesen.



1 Heft
 2 je p suieimuij
 unz uebegunfneitel



Teilaufgaben zum Einmaleins der 2 Heft 1
 Lies deinem Partner / deiner Partnerin die 11 Aufgaben auf den folgenden 3 Seiten vor und überprüfe, ob seine / ihre Antworten richtig sind. Drehe anschließend das Heft um und lass dich dann von deinem Partner / deiner Partnerin die anderen 11 Aufgaben vorlesen.

B

(c) GehirnJogging für Kinder - Michael Junga, Braunschweig

A	4 geteilt durch 2 ist wie viel?	2
B	16 geteilt durch 2 ist wie viel?	8
C	8 geteilt durch 2 ist wie viel?	4
D	20 geteilt durch 2 ist wie viel?	10

1a

E	12 geteilt durch 2 ist wie viel?	6
F	0 geteilt durch 2 ist wie viel?	0
G	2 geteilt durch 2 ist wie viel?	1
H	18 geteilt durch 2 ist wie viel?	9

2a

A	0 geteilt durch 2 ist wie viel?	0
B	8 geteilt durch 2 ist wie viel?	4
C	4 geteilt durch 2 ist wie viel?	2
D	6 geteilt durch 2 ist wie viel?	3

1b

E	16 geteilt durch 2 ist wie viel?	8
F	12 geteilt durch 2 ist wie viel?	6
G	18 geteilt durch 2 ist wie viel?	9
H	2 geteilt durch 2 ist wie viel?	1

2b

I	14 geteilt durch 2 ist wie viel?	7
J	10 geteilt durch 2 ist wie viel?	5
K	6 geteilt durch 2 ist wie viel?	3

3a

L	20 geteilt durch 2 ist wie viel?	10
M	10 geteilt durch 2 ist wie viel?	5
N	4 geteilt durch 2 ist wie viel?	2

3c

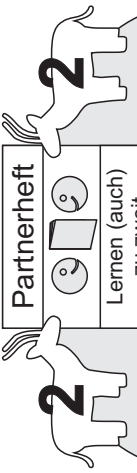
Ende

Ende

A

vorlesen.

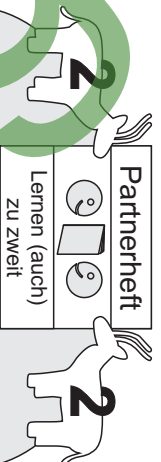
Lies die 11 Aufgaben Partnerin die anderen Aufgaben anschließend das Heft um und lass dir dann von deinem Partner / deiner Partnerin die anderen 11 Aufgaben vorlesen.
 deine Partnerin / Partner
 die 11 Aufgaben auf den folgenden 3 Seiten vor und überprüfe, ob seine / ihre Antworten richtig sind. Drehe anschließend das Heft um und lass dir dann von deinem Partner / deiner Partnerin die anderen 11 Aufgaben vorlesen.



Partnerheft
 (auch) lernen zu zweit

A	Wie viel ist 4 geteilt durch 2?	2
B	Wie viel ist 12 geteilt durch 2?	6
C	Wie viel ist 8 geteilt durch 2?	4
D	Wie viel ist 18 geteilt durch 2?	9

1a



Partnerheft
 (auch) lernen zu zweit

Teilaufgaben zum Einmaleins der 2 Heft 2

Lies deinem Partner / deiner Partnerin die 11 Aufgaben auf den folgenden 3 Seiten vor und überprüfe, ob seine / ihre Antworten richtig sind. Drehe anschließend das Heft um und lass dir dann von deinem Partner / deiner Partnerin die anderen 11 Aufgaben vorlesen.

B

E	Wie viel ist 2 geteilt durch 2?	1
F	wie viel ist 16 geteilt durch 2?	8
G	Wie viel ist 0 geteilt durch 2?	0
H	Wie viel ist 10 geteilt durch 2?	5

2a

A	Wie viel ist 6 geteilt durch 2?	3
B	Wie viel ist 10 geteilt durch 2?	5
C	Wie viel ist 0 geteilt durch 2?	0
D	Wie viel ist 16 geteilt durch 2?	8

1b

E	Wie viel ist 4 geteilt durch 2?	2
F	Wie viel ist 20 geteilt durch 2?	10
G	Wie viel ist 8 geteilt durch 2?	4
H	Wie viel ist 12 geteilt durch 2?	6

2b

I	Wie viel ist 6 geteilt durch 2?	3
J	Wie viel ist 14 geteilt durch 2?	7
K	Wie viel ist 20 geteilt durch 2?	10

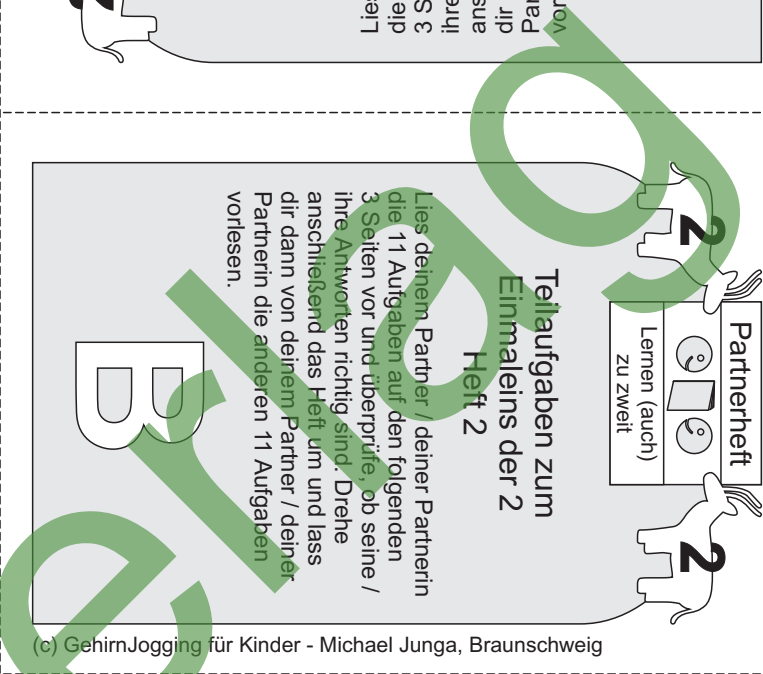
3a

Ende

L	Wie viel ist 2 geteilt durch 2?	1
M	Wie viel ist 18 geteilt durch 2?	9
N	Wie viel ist 10 geteilt durch 2?	5

3c

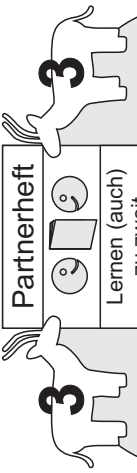
epu3



A

vorlesen.

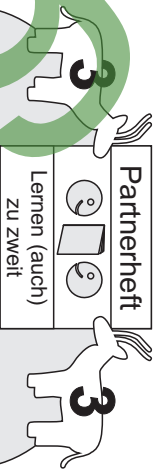
Lies die anderen 10 Aufgaben Partnerin die anderen 10 Aufgaben anschließend das Heft um und lass dir dann von deinem Partner / deiner Partnerin die anderen 10 Aufgaben / seine / ihre Antwort richtig und falsch / ob er / sie die Aufgaben auf den folgenden 3 Seiten vor und überprüfe, ob seine / ihre Antworten richtig sind. Drehe anschließend das Heft um und lass dir dann von deinem Partner / deiner Partnerin die anderen 10 Aufgaben vorlesen.



3 Heft
2 je eines
wenn ungeteilt

A 4 geteilt durch wie viel ist 2?	2
B 14 geteilt durch wie viel ist 2?	7
C 8 geteilt durch wie viel ist 2?	4
D 20 geteilt durch wie viel ist 2?	10

1a



Teilaufgaben zum
Einmaleins der 2
Heft 3

Lies deinem Partner / deiner Partnerin die 10 Aufgaben auf den folgenden 3 Seiten vor und überprüfe, ob seine / ihre Antworten richtig sind. Drehe anschließend das Heft um und lass dir dann von deinem Partner / deiner Partnerin die anderen 10 Aufgaben vorlesen.

B

E 12 geteilt durch wie viel ist 2?	6
F 6 geteilt durch wie viel ist 2?	3
G 18 geteilt durch wie viel ist 2?	9
H 2 geteilt durch wie viel ist 2?	1

2a

A 10 geteilt durch wie viel ist 2?	5
B 8 geteilt durch wie viel ist 2?	4
C 4 geteilt durch wie viel ist 2?	2
D 6 geteilt durch wie viel ist 2?	3

1b

E 16 geteilt durch wie viel ist 2?	8
F 12 geteilt durch wie viel ist 2?	6
G 18 geteilt durch wie viel ist 2?	9
H 2 geteilt durch wie viel ist 2?	1

2b

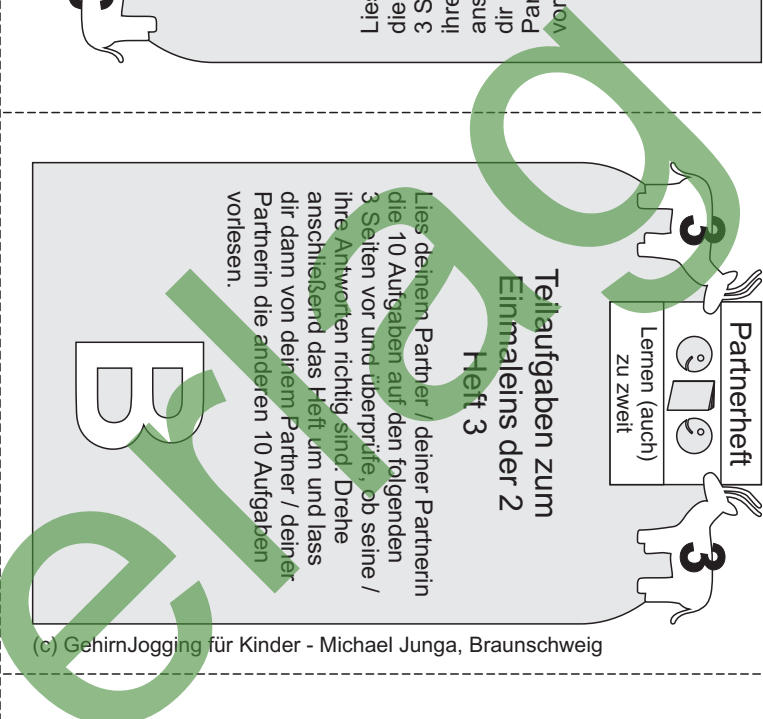
I 10 geteilt durch wie viel ist 2?	5
J 16 geteilt durch wie viel ist 2?	8

Ende

3a

2 ? 2 si durch wie viel ist 2?	J
1 ? 2 si durch wie viel ist 2?	I

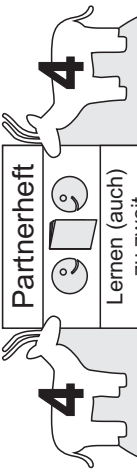
3c



A

vorlesen

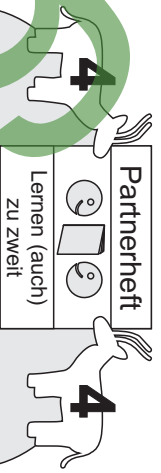
Lies die anderen 10 Aufgaben Partnerin / deiner Partner und lass anschließend das Heft um 3 Seiten vor und überprüfe, ob seine / ihre Antworten richtig sind. Drehe die 10 Aufgaben auf den Kopf und lies sie vor und überprüfe, ob seine / ihre Antworten richtig sind. Drehe anschließend das Heft um und lass dir dann von deinem Partner / deiner Partnerin die anderen 10 Aufgaben vorlesen.



Partnerheft
Lernen (auch) zu zweit

A	2 ist 4 geteilt durch wie viel?	2
B	2 ist 12 geteilt durch wie viel?	6
C	2 ist 18 geteilt durch wie viel?	9
D	2 ist 8 geteilt durch wie viel?	4

1a



Partnerheft
Lernen (auch) zu zweit

Teilaufgaben zum Einmaleins der 2 Heft 4

Lies deinem Partner / deiner Partnerin die 10 Aufgaben auf den folgenden 3 Seiten vor und überprüfe, ob seine / ihre Antworten richtig sind. Drehe anschließend das Heft um und lass dir dann von deinem Partner / deiner Partnerin die anderen 10 Aufgaben vorlesen.

B

E	2 ist 2 geteilt durch wie viel?	1
F	2 ist 14 geteilt durch wie viel?	7
G	2 ist 20 geteilt durch wie viel?	10
H	2 ist 10 geteilt durch wie viel?	5

2a

A	2 ist 6 geteilt durch wie viel?	3
B	2 ist 18 geteilt durch wie viel?	9
C	2 ist 4 geteilt durch wie viel?	2
D	2 ist 16 geteilt durch wie viel?	8

1b

I	2 ist 6 geteilt durch wie viel?	3
J	2 ist 16 geteilt durch wie viel?	8

Ende

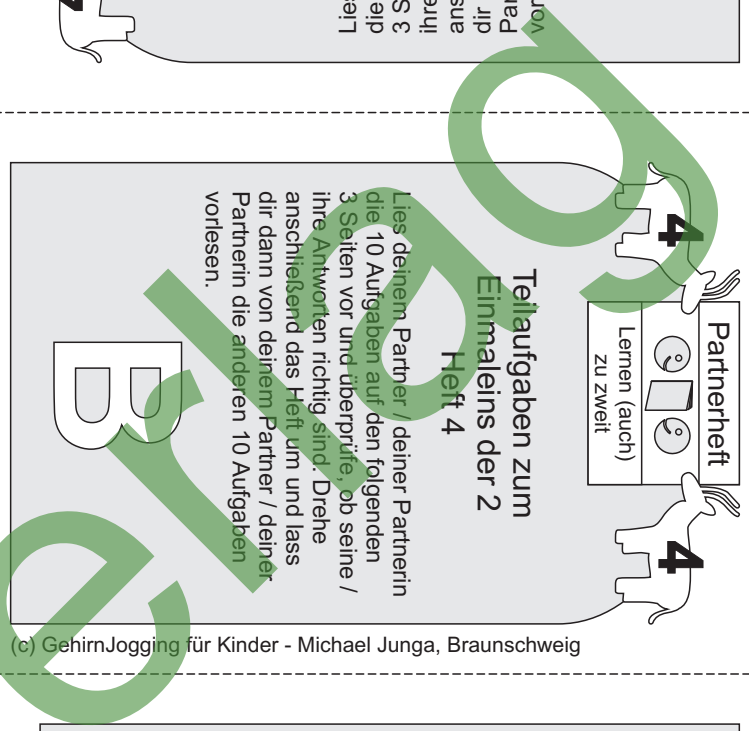
3a

E	2 ist 20 geteilt durch wie viel?	10
F	2 ist 8 geteilt durch wie viel?	4
G	2 ist 12 geteilt durch wie viel?	6
H	2 ist 2 geteilt durch wie viel?	1

2b

I	2 ist 4 geteilt durch wie viel?	2
J	2 ist 10 geteilt durch wie viel?	5

3c



A

vorlesen.

Lies deinem Partner / deiner Partnerin die 11 Aufgaben vor und lass anschließend das Heft um und um seine / ihre Antworten richtigig drehen. Drehe die 11 Aufgaben auf den folgenden 3 Seiten vor und überprüfe, ob seine / ihre Antworten richtig sind. Drehe anschließend das Heft um und lass dir dann von deinem Partner / deiner Partnerin die anderen 11 Aufgaben vorlesen.

2 Partnerheft **2**

Lernen (auch) zu zweit

2 Heft
3 mal einzeln
1 mal zusammen
1 mal abgeben

2 Partnerheft **2**

Lernen (auch) zu zweit

Teilaufgaben zum Einmaleins der 3 Heft 2

Lies deinem Partner / deiner Partnerin die 11 Aufgaben auf den folgenden 3 Seiten vor und überprüfe, ob seine / ihre Antworten richtig sind. Drehe anschließend das Heft um und lass dir dann von deinem Partner / deiner Partnerin die anderen 11 Aufgaben vorlesen.

B

(c) GehirnJogging für Kinder - Michael Junga, Braunschweig

A	Wie viel ist 15 geteilt durch 3?	5
B	Wie viel ist 3 geteilt durch 3?	1
C	Wie viel ist 21 geteilt durch 3?	7
D	Wie viel ist 0 geteilt durch 3?	0

1a

E	Wie viel ist 9 geteilt durch 3?	3
F	Wie viel ist 30 geteilt durch 3?	10
G	Wie viel ist 6 geteilt durch 3?	2
H	Wie viel ist 18 geteilt durch 3?	6

2a

A	Wie viel ist 6 geteilt durch 3?	2
B	Wie viel ist 18 geteilt durch 3?	6
C	Wie viel ist 27 geteilt durch 3?	9
D	Wie viel ist 12 geteilt durch 3?	4

1b

I	Wie viel ist 27 geteilt durch 3?	9
J	Wie viel ist 12 geteilt durch 3?	4
K	Wie viel ist 24 geteilt durch 3?	8

3a

E	Wie viel ist 30 geteilt durch 3?	10
F	Wie viel ist 21 geteilt durch 3?	7
G	Wie viel ist 0 geteilt durch 3?	0
H	Wie viel ist 15 geteilt durch 3?	5

2b

K	Wie viel ist 6 geteilt durch 3?	2
L	Wie viel ist 3 geteilt durch 3?	1
M	Wie viel ist 24 geteilt durch 3?	8


3c

epu3

Ende

A

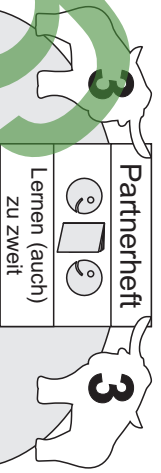
Lies die Aufgaben der anderen Partnerin / deines Partners vor und dann von deinem Partner / deiner Partnerin die anderen 10 Aufgaben anschliessend das Heft um und lass es dir von deinem Partner / deiner Partnerin vorlesen. Drehe die Aufgaben richtig und antworte auf die 10 Aufgaben. Deine Antworten sind richtig, wenn du sie vorlesen und überprüfen kannst. Lies die Aufgaben vor und lass dir dann von deinem Partner / deiner Partnerin die anderen 10 Aufgaben vorlesen.



3 Heft
3 je eines
wenn abgeteilt

A	24 geteilt durch wie viel ist 3?	8
B	12 geteilt durch wie viel ist 3?	4
C	27 geteilt durch wie viel ist 3?	9
D	18 geteilt durch wie viel ist 3?	6

1a



Teilaufgaben zum Einmaleins der 3 Heft 3

Lies deinem Partner / deiner Partnerin die 10 Aufgaben auf den folgenden 3 Seiten vor und überprüfe, ob seine / ihre Antworten richtig sind. Drehe anschliessend das Heft um und lass dir dann von deinem Partner / deiner Partnerin die anderen 10 Aufgaben vorlesen.

B

E	6 geteilt durch wie viel ist 3?	2
F	30 geteilt durch wie viel ist 3?	10
G	9 geteilt durch wie viel ist 3?	3
H	15 geteilt durch wie viel ist 3?	5

2a

A	9 geteilt durch wie viel ist 3?	3
B	3 geteilt durch wie viel ist 3?	1
C	24 geteilt durch wie viel ist 3?	8
D	15 geteilt durch wie viel ist 3?	5

1b

E	18 geteilt durch wie viel ist 3?	6
F	12 geteilt durch wie viel ist 3?	4
G	21 geteilt durch wie viel ist 3?	7
H	30 geteilt durch wie viel ist 3?	10

2b

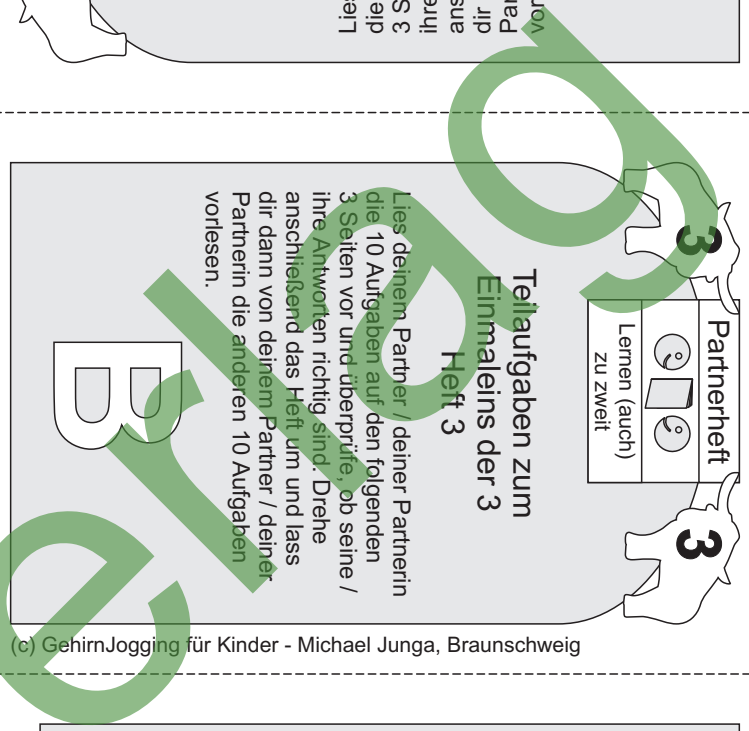
I	21 geteilt durch wie viel ist 3?	7
J	3 geteilt durch wie viel ist 3?	1

Ende

3a

6	3 geteilt durch wie viel ist 3?	I
1	3 geteilt durch wie viel ist 3?	J

3c



A

vorlesen.

Lies deinem Partner / deiner Partnerin die 10 Aufgaben auf den folgenden 3 Seiten vor und überprüfe, ob seine / ihre Antworten richtig sind. Drehe anschließend das Heft um und lass dir dann von deinem Partner / deiner Partnerin die anderen 10 Aufgaben vorlesen.

4 Partnerheft

4 Heft
3 je eines
unz uneben
teileil

Lernen (auch) zu zweit
Lernen (auch) zu zweit

4 Partnerheft

4 Heft
3 je eines
unz uneben
teileil

Lernen (auch) zu zweit
Lernen (auch) zu zweit

Teilaufgaben zum Einmaleins der 3

Lies deinem Partner / deiner Partnerin die 10 Aufgaben auf den folgenden 3 Seiten vor und überprüfe, ob seine / ihre Antworten richtig sind. Drehe anschließend das Heft um und lass dir dann von deinem Partner / deiner Partnerin die anderen 10 Aufgaben vorlesen.

B

(c) GehirnJogging für Kinder - Michael Junga, Braunschweig

A 3 ist
15 geteilt durch wie viel? 5

B 3 ist
3 geteilt durch wie viel? 1

C 3 ist
21 geteilt durch wie viel? 7

D 3 ist
9 geteilt durch wie viel? 3

E 3 ist
24 geteilt durch wie viel? 8

F 3 ist
30 geteilt durch wie viel? 10

G 3 ist
6 geteilt durch wie viel? 2

H 3 ist
18 geteilt durch wie viel? 6

A 3 ist
6 geteilt durch wie viel? 2

B 3 ist
18 geteilt durch wie viel? 6

C 3 ist
27 geteilt durch wie viel? 9

D 3 ist
12 geteilt durch wie viel? 4

E 3 ist
30 geteilt durch wie viel? 10

F 3 ist
21 geteilt durch wie viel? 7

G 3 ist
9 geteilt durch wie viel? 3

H 3 ist
15 geteilt durch wie viel? 5

I 3 ist
27 geteilt durch wie viel? 9

J 3 ist
12 geteilt durch wie viel? 4

I 3 ist
9 geteilt durch wie viel? 3

J 3 ist
6 geteilt durch wie viel? 2

1a

2a

3a

1b

2b

3c

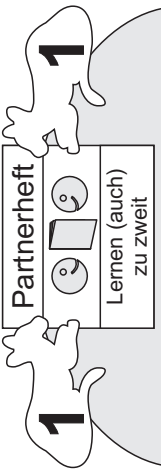
epuz

Ende

A

vorlesen


Lies die Aufgaben
Partnerin die anderen
Partner dann von deinem Partner / deiner
Anschließend das Heft um und lass
um und um von deinem Partner / deiner
ihre Antworten richtig und. Drehe
/ seine / seine prüfe. Drehe
3 Seiten vor und überprüfe, ob seine /
die 11 Aufgaben auf den folgenden
Partnerin die anderen 11 Aufgaben
Lies deinem Partner / deiner Partnerin
die 11 Aufgaben auf den folgenden
3 Seiten vor und überprüfe, ob seine /
ihre Antworten richtig sind. Drehe
anschließend das Heft um und lass
dir dann von deinem Partner / deiner
Partnerin die anderen 11 Aufgaben
vorlesen.



1 Heft
4 jap suieimuij
unz ueqafgnijiel

A	8 geteilt durch 4 ist wie viel?	2
B	32 geteilt durch 4 ist wie viel?	8
C	16 geteilt durch 4 ist wie viel?	4
D	40 geteilt durch 4 ist wie viel?	10

1a



Teilaufgaben zum
Einmaleins der 4
Heft 1

Lies deinem Partner / deiner Partnerin
die 11 Aufgaben auf den folgenden
3 Seiten vor und überprüfe, ob seine /
ihre Antworten richtig sind. Drehe
anschließend das Heft um und lass
dir dann von deinem Partner / deiner
Partnerin die anderen 11 Aufgaben
vorlesen.

B

E	24 geteilt durch 4 ist wie viel?	6
F	0 geteilt durch 4 ist wie viel?	0
G	4 geteilt durch 4 ist wie viel?	1
H	36 geteilt durch 4 ist wie viel?	9

2a

A	0 geteilt durch 4 ist wie viel?	0
B	16 geteilt durch 4 ist wie viel?	4
C	8 geteilt durch 4 ist wie viel?	2
D	12 geteilt durch 4 ist wie viel?	3

1b

I	28 geteilt durch 4 ist wie viel?	7
J	20 geteilt durch 4 ist wie viel?	5
K	12 geteilt durch 4 ist wie viel?	3

3a

E	32 geteilt durch 4 ist wie viel?	8
F	24 geteilt durch 4 ist wie viel?	6
G	36 geteilt durch 4 ist wie viel?	9
H	4 geteilt durch 4 ist wie viel?	1

2b

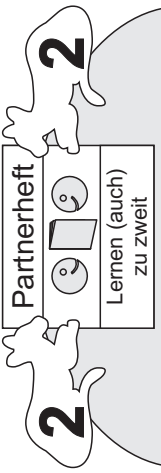
I	01	?
J	82	?
K	02	?
L	07	?

3c

A

vorlesen.

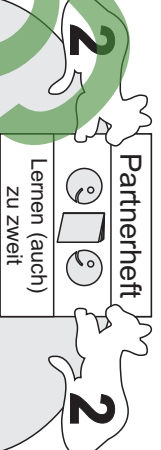
Lies deinem Partner / deiner Partnerin die 11 Aufgaben aus dem Heft vor und lass anschließend das Heft um und um von deinem Partner / deiner Partnerin die anderen 11 Aufgaben vorlesen.



2 Heft
4 je eines
Einnaleins
Teilaufgaben

A	Wie viel ist 8 geteilt durch 4?	2
B	Wie viel ist 24 geteilt durch 4?	6
C	Wie viel ist 16 geteilt durch 4?	4
D	Wie viel ist 36 geteilt durch 4?	9

1a



Lies deinem Partner / deiner Partnerin die 11 Aufgaben auf den folgenden 3 Seiten vor und überprüfe, ob seine / ihre Antworten richtig sind. Drehe anschließend das Heft um und lass dir dann von deinem Partner / deiner Partnerin die anderen 11 Aufgaben vorlesen.

B

Teilaufgaben zum Einmaleins der 4 Heft 2

E	Wie viel ist 4 geteilt durch 4?	1
F	Wie viel ist 32 geteilt durch 4?	8
G	Wie viel ist 0 geteilt durch 4?	0
H	Wie viel ist 20 geteilt durch 4?	5

2a

(c) GehirnJogging für Kinder - Michael Junga, Braunschweig

A	Wie viel ist 12 geteilt durch 4?	3
B	Wie viel ist 20 geteilt durch 4?	5
C	Wie viel ist 0 geteilt durch 4?	0
D	Wie viel ist 32 geteilt durch 4?	8

1b

I	Wie viel ist 12 geteilt durch 4?	3
J	Wie viel ist 40 geteilt durch 4?	10
K	Wie viel ist 28 geteilt durch 4?	7

3a

E	Wie viel ist 8 geteilt durch 4?	2
F	Wie viel ist 40 geteilt durch 4?	10
G	Wie viel ist 16 geteilt durch 4?	4
H	Wie viel ist 24 geteilt durch 4?	6

2b

I	Wie viel ist 4 geteilt durch 4?	1
J	Wie viel ist 28 geteilt durch 4?	7
K	Wie viel ist 36 geteilt durch 4?	9

3c

Ende

A

vorlesen.

Lies deinem Partner / deiner Partnerin die 10 Aufgaben auf den folgenden 3 Seiten vor und überprüfe, ob seine / ihre Antworten richtig sind. Drehe anschließend das Heft um und lass dir dann von deinem Partner / deiner Partnerin die anderen 10 Aufgaben vorlesen.



Partnerheft
Lernen (auch) zu zweit

3 Heft
4 je eines
wenn ungeteilt

A 20 geteilt durch wie viel ist 4?	5
B 8 geteilt durch wie viel ist 4?	2
C 16 geteilt durch wie viel ist 4?	4
D 12 geteilt durch wie viel ist 4?	3

1a

Partnerheft
Lernen (auch) zu zweit

Lies deinem Partner / deiner Partnerin die 10 Aufgaben auf den folgenden 3 Seiten vor und überprüfe, ob seine / ihre Antworten richtig sind. Drehe anschließend das Heft um und lass dir dann von deinem Partner / deiner Partnerin die anderen 10 Aufgaben vorlesen.

B

Teilaufgaben zum Einmaleins der 4 Heft 3

E 32 geteilt durch wie viel ist 4?	8
F 24 geteilt durch wie viel ist 4?	6
G 36 geteilt durch wie viel ist 4?	9
H 4 geteilt durch wie viel ist 4?	1

2a

A 8 geteilt durch wie viel ist 4?	2
B 32 geteilt durch wie viel ist 4?	8
C 12 geteilt durch wie viel ist 4?	3
D 40 geteilt durch wie viel ist 4?	10

1b

E 24 geteilt durch wie viel ist 4?	6
F 16 geteilt durch wie viel ist 4?	4
G 4 geteilt durch wie viel ist 4?	1
H 36 geteilt durch wie viel ist 4?	9

2b

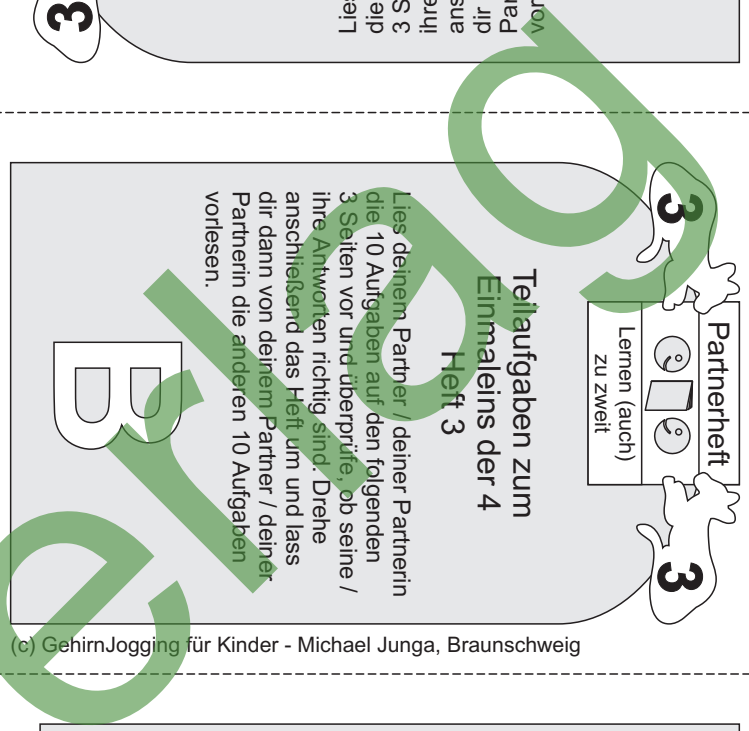
I 40 geteilt durch wie viel ist 4?	10
J 28 geteilt durch wie viel ist 4?	7

Ende

3a

I 28 geteilt durch wie viel ist 4?	7
J ? geteilt durch wie viel ist 4?	?
K ? geteilt durch wie viel ist 4?	?
L 28 geteilt durch wie viel ist 4?	?

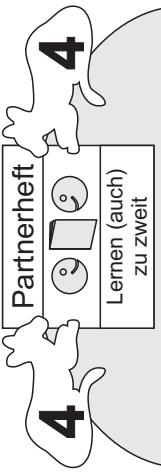
3c



A

vorlesen.

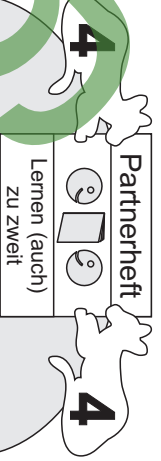
Lies die anderen 10 Aufgaben Partnerin die anderen 10 Aufgaben anschließend das Heft um und lass dir dann von deinem Partner / deiner Partnerin die anderen 10 Aufgaben vorlesen.
 Drehe die 10 Aufgaben auf den folgenden 3 Seiten vor und überprüfe, ob seine / ihre Antworten richtig sind. Drehe anschließend das Heft um und lass dir dann von deinem Partner / deiner Partnerin die anderen 10 Aufgaben vorlesen.



7

7

4 Heft
 4 jap suieimuij
 unz unebagunlaunjeil



4

4

Teilaufgaben zum Einmaleins der 4 Heft 4

Lies deinem Partner / deiner Partnerin die 10 Aufgaben auf den folgenden 3 Seiten vor und überprüfe, ob seine / ihre Antworten richtig sind. Drehe anschließend das Heft um und lass dir dann von deinem Partner / deiner Partnerin die anderen 10 Aufgaben vorlesen.

B

(c) GehirnJogging für Kinder - Michael Junga, Braunschweig

A	4 ist 8 geteilt durch wie viel?	2
B	4 ist 24 geteilt durch wie viel?	6
C	4 ist 16 geteilt durch wie viel?	4
D	4 ist 36 geteilt durch wie viel?	9

1a

E	4 ist 4 geteilt durch wie viel?	1
F	4 ist 32 geteilt durch wie viel?	8
G	4 ist 40 geteilt durch wie viel?	10
H	4 ist 20 geteilt durch wie viel?	5

2a

A	4 ist 12 geteilt durch wie viel?	3
B	4 ist 20 geteilt durch wie viel?	5
C	4 ist 40 geteilt durch wie viel?	10
D	4 ist 8 geteilt durch wie viel?	2

1b

I	4 ist 12 geteilt durch wie viel?	3
J	4 ist 28 geteilt durch wie viel?	7

Ende

3a

E	4 ist 28 geteilt durch wie viel?	7
F	4 ist 36 geteilt durch wie viel?	9
G	4 ist 16 geteilt durch wie viel?	4
H	4 ist 24 geteilt durch wie viel?	6

2b

8	4 ist geteilt durch wie viel?	2
1	4 ist geteilt durch wie viel?	4

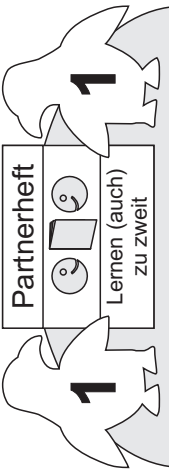
3c

epu3

A

Lies deinem Partner / deiner Partnerin die 11 Aufgaben vor und lass anschließend das Heft um und lass dir dann von deinem Partner / deiner Partnerin die anderen 11 Aufgaben vorlesen.

1 Heft
5 je 11 Aufgaben
umzuegeteilt



A	15 geteilt durch 5 ist wie viel?	3
B	5 geteilt durch 5 ist wie viel?	1
C	35 geteilt durch 5 ist wie viel?	7
D	0 geteilt durch 5 ist wie viel?	0

1a

B

Teilaufgaben zum Einmaleins der 5 Heft 1

Lies deinem Partner / deiner Partnerin die 11 Aufgaben auf den folgenden 3 Seiten vor und überprüfe, ob seine / ihre Antworten richtig sind. Drehe anschließend das Heft um und lass dir dann von deinem Partner / deiner Partnerin die anderen 11 Aufgaben vorlesen.

B

E	50 geteilt durch 5 ist wie viel?	10
F	20 geteilt durch 5 ist wie viel?	4
G	10 geteilt durch 5 ist wie viel?	2
H	30 geteilt durch 5 ist wie viel?	6

2a

A

A	10 geteilt durch 5 ist wie viel?	2
B	25 geteilt durch 5 ist wie viel?	5
C	40 geteilt durch 5 ist wie viel?	8
D	15 geteilt durch 5 ist wie viel?	3

1b

E

E	30 geteilt durch 5 ist wie viel?	6
F	45 geteilt durch 5 ist wie viel?	9
G	0 geteilt durch 5 ist wie viel?	0
H	35 geteilt durch 5 ist wie viel?	7

2b

I	45 geteilt durch 5 ist wie viel?	9
J	25 geteilt durch 5 ist wie viel?	5
K	40 geteilt durch 5 ist wie viel?	8

3a

Ende

9c

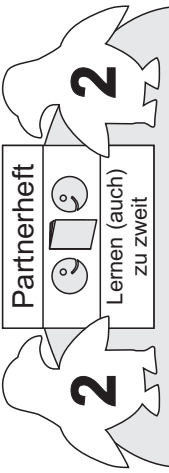
01	?/leia eiw	K
4	?/leia eiw	J
1	?/leia eiw	I

epu3

A

Lies deinem Partner / deiner Partnerin die 11 Aufgaben auf den folgenden 3 Seiten vor und überprüfe, ob seine / ihre Antworten richtig sind. Drehe anschließend das Heft um und lass dir dann von deinem Partner / deiner Partnerin die anderen 11 Aufgaben vorlesen.

2 Heft
5 der Partner
unz abgabeteil



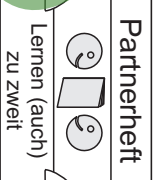
A	Wie viel ist 0 geteilt durch 5?	0
B	Wie viel ist 15 geteilt durch 5?	3
C	Wie viel ist 30 geteilt durch 5?	6
D	Wie viel ist 5 geteilt durch 5?	1

1a

2

Lies deinem Partner / deiner Partnerin die 11 Aufgaben auf den folgenden 3 Seiten vor und überprüfe, ob seine / ihre Antworten richtig sind. Drehe anschließend das Heft um und lass dir dann von deinem Partner / deiner Partnerin die anderen 11 Aufgaben vorlesen.

2 Heft 2
Teilgaben zum Einmaleins der 5



B

E	Wie viel ist 50 geteilt durch 5?	10
F	Wie viel ist 25 geteilt durch 5?	5
G	Wie viel ist 10 geteilt durch 5?	2
H	Wie viel ist 40 geteilt durch 5?	8

2a

(c) GehirnJogging für Kinder - Michael Junga, Braunschweig

A

A	Wie viel ist 5 geteilt durch 5?	1
B	Wie viel ist 30 geteilt durch 5?	6
C	Wie viel ist 0 geteilt durch 5?	0
D	Wie viel ist 35 geteilt durch 5?	7

1b

E

E	Wie viel ist 20 geteilt durch 5?	4
F	Wie viel ist 50 geteilt durch 5?	10
G	Wie viel ist 25 geteilt durch 5?	5
H	Wie viel ist 10 geteilt durch 5?	2

2b

I

I	Wie viel ist 20 geteilt durch 5?	4
J	Wie viel ist 35 geteilt durch 5?	7
K	Wie viel ist 45 geteilt durch 5?	9

3a

Ende

9c

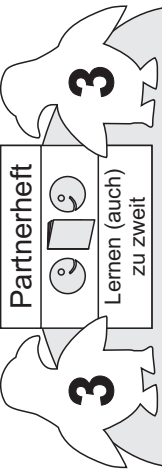
K	Wie viel ist 40 geteilt durch 5?	8
L	Wie viel ist 15 geteilt durch 5?	3
M	Wie viel ist 45 geteilt durch 5?	9

A

vorlesen.

Lies deinem Partner / deiner Partnerin die 10 Aufgaben auf den folgenden 3 Seiten vor und überprüfe, ob seine / ihre Antworten richtig sind. Drehe anschließend das Heft um und lass dir dann von deinem Partner / deiner Partnerin die anderen 10 Aufgaben vorlesen.

3 Heft
5 der
Einmaleins
wurz
aufgaben
teile



A 10 geteilt durch wie viel ist 5?	2
B 25 geteilt durch wie viel ist 5?	5
C 40 geteilt durch wie viel ist 5?	8
D 15 geteilt durch wie viel ist 5?	3

1a

3

Partnerheft
Lernen (auch zu zweit)

3

Teilaufgaben zum
Einmaleins der 5
Heft 3

Lies deinem Partner / deiner Partnerin die 10 Aufgaben auf den folgenden 3 Seiten vor und überprüfe, ob seine / ihre Antworten richtig sind. Drehe anschließend das Heft um und lass dir dann von deinem Partner / deiner Partnerin die anderen 10 Aufgaben vorlesen.

B

E 30 geteilt durch wie viel ist 5?	6
F 45 geteilt durch wie viel ist 5?	9
G 35 geteilt durch wie viel ist 5?	7
H 5 geteilt durch wie viel ist 5?	1

2a

A

15 geteilt
durch wie viel
ist 5?

3

B
5 geteilt
durch wie viel
ist 5?

1

C
35 geteilt
durch wie viel
ist 5?

7

D
50 geteilt
durch wie viel
ist 5?

10

1b

E

20 geteilt
durch wie viel
ist 5?

4

F
10 geteilt
durch wie viel
ist 5?

2

G
30 geteilt
durch wie viel
ist 5?

6

H
45 geteilt
durch wie viel
ist 5?

9

2b

I 20 geteilt durch wie viel ist 5?	4
J 50 geteilt durch wie viel ist 5?	10

Ende

3a

9c

8	?
?	5
5	?
?	5
5	?
?	5

epu3

5? si

04

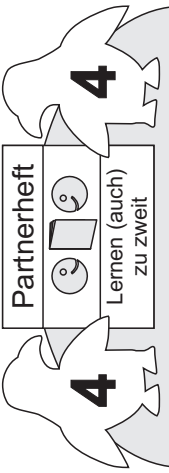
5? si

25 geteilt

A

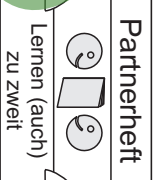
vorlesen.

Lies deinem Partner / deiner Partnerin die 10 Aufgaben auf den folgenden 3 Seiten vor und überprüfe, ob seine / ihre Antworten richtig sind. Drehe anschließend das Heft um und lass dir dann von deinem Partner / deiner Partnerin die anderen 10 Aufgaben vorlesen.



Teilaufgaben zum Einmaleins der 5
Heft 4

Lies deinem Partner / deiner Partnerin die 10 Aufgaben auf den folgenden 3 Seiten vor und überprüfe, ob seine / ihre Antworten richtig sind. Drehe anschließend das Heft um und lass dir dann von deinem Partner / deiner Partnerin die anderen 10 Aufgaben vorlesen.



B

(c) GehirnJogging für Kinder - Michael Junga, Braunschweig

A	5 ist 15 geteilt durch wie viel?	3
B	5 ist 30 geteilt durch wie viel?	6
C	5 ist 5 geteilt durch wie viel?	1
D	5 ist 50 geteilt durch wie viel?	10

1a

E	5 ist 25 geteilt durch wie viel?	5
F	5 ist 10 geteilt durch wie viel?	2
G	5 ist 40 geteilt durch wie viel?	8
H	5 ist 20 geteilt durch wie viel?	4

2a

A	5 ist 5 geteilt durch wie viel?	1
B	5 ist 35 geteilt durch wie viel?	7
C	5 ist 20 geteilt durch wie viel?	4
D	5 ist 50 geteilt durch wie viel?	10

1b

I	5 ist 35 geteilt durch wie viel?	7
J	5 ist 45 geteilt durch wie viel?	9

Ende

3a

E	5 ist 30 geteilt durch wie viel?	6
F	5 ist 25 geteilt durch wie viel?	5
G	5 ist 10 geteilt durch wie viel?	2
H	5 ist 45 geteilt durch wie viel?	9

2b

8	Wie viel ist 5 geteilt durch 40?	J
3	Wie viel ist 5 geteilt durch 15?	I

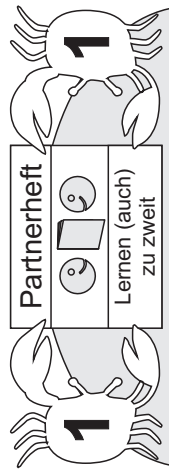
3c

epuq

A

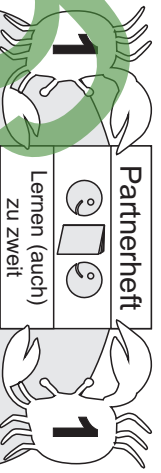
vorlesen.

Lies die Aufgaben Partnerin die anderen Aufgaben
 dir dann von deinem Partner / deiner
 Partnerin an. Anschließend das Heft lass
 dich um ein um von deinem Partner / deiner
 Partnerin. Drehe die Aufgaben richtig
 um und lass sie dir vorlesen. Drehe
 deine Aufgaben um und lass sie dir
 Partnerin die anderen Aufgaben vorlesen.
 Lies die Aufgaben Partnerin die anderen Aufgaben
 dir dann von deinem Partner / deiner
 Partnerin an. Anschließend das Heft lass
 dich um ein um von deinem Partner / deiner
 Partnerin. Drehe die Aufgaben richtig
 um und lass sie dir vorlesen. Drehe
 deine Aufgaben um und lass sie dir
 Partnerin die anderen Aufgaben vorlesen.



1 Heft

9 jap suieimuij
 unuz ueqafgnajiel



Teilaufgaben zum
 Einmaleins der 6
 Heft 1

Lies deinem Partner / deiner Partnerin
 die 11 Aufgaben auf den folgenden
 3 Seiten vor und überprüfe, ob seine /
 ihre Antworten richtig sind. Drehe
 anschließend das Heft um und lass
 dir dann von deinem Partner / deiner
 Partnerin die anderen 11 Aufgaben
 vorlesen.

B

(c) GehirnJogging für Kinder - Michael Junga, Braunschweig

A	12 geteilt durch 6 ist wie viel?	2
B	48 geteilt durch 6 ist wie viel?	8
C	24 geteilt durch 6 ist wie viel?	4
D	60 geteilt durch 6 ist wie viel?	10

1a

E	36 geteilt durch 6 ist wie viel?	6
F	0 geteilt durch 6 ist wie viel?	0
G	54 geteilt durch 6 ist wie viel?	9
H	6 geteilt durch 6 ist wie viel?	1

2a

A	0 geteilt durch 6 ist wie viel?	0
B	24 geteilt durch 6 ist wie viel?	4
C	12 geteilt durch 6 ist wie viel?	2
D	48 geteilt durch 6 ist wie viel?	8

1b

I	42 geteilt durch 6 ist wie viel?	7
J	30 geteilt durch 6 ist wie viel?	5
K	18 geteilt durch 6 ist wie viel?	3

3a

E	18 geteilt durch 6 ist wie viel?	3
F	36 geteilt durch 6 ist wie viel?	6
G	6 geteilt durch 6 ist wie viel?	1
H	54 geteilt durch 6 ist wie viel?	9

2b

L	24 geteilt durch 6 ist wie viel?	4
M	30 geteilt durch 6 ist wie viel?	5
N	18 geteilt durch 6 ist wie viel?	3

3c

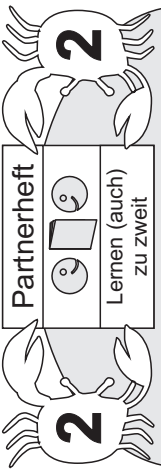
Ende

Ende

A

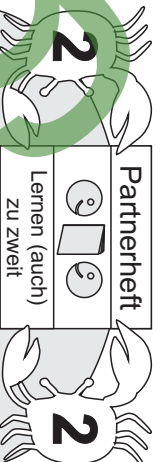
vorlesen.

Lies deinem Partner / deiner Partnerin die 11 Aufgaben auf den folgenden 3 Seiten vor und überprüfe, ob seine / ihre Antworten richtig sind. Drehe anschließend das Heft um und lass dir dann von deinem Partner / deiner Partnerin die anderen 11 Aufgaben vorlesen.



2 Heft

9 je 9 Aufgaben
unz unebgabun teil



Teilaufgaben zum Einmaleins der 6 Heft 2

Lies deinem Partner / deiner Partnerin die 11 Aufgaben auf den folgenden 3 Seiten vor und überprüfe, ob seine / ihre Antworten richtig sind. Drehe anschließend das Heft um und lass dir dann von deinem Partner / deiner Partnerin die anderen 11 Aufgaben vorlesen.

B

(c) GehirnJogging für Kinder - Michael Junga, Braunschweig

A	Wie viel ist 12 geteilt durch 6?	2
B	Wie viel ist 36 geteilt durch 6?	6
C	Wie viel ist 24 geteilt durch 6?	4
D	Wie viel ist 54 geteilt durch 6?	9

1a

E	Wie viel ist 6 geteilt durch 6?	1
F	wie viel ist 48 geteilt durch 6?	8
G	Wie viel ist 0 geteilt durch 6?	0
H	Wie viel ist 30 geteilt durch 6?	5

2a

I	Wie viel ist 18 geteilt durch 6?	3
J	Wie viel ist 60 geteilt durch 6?	10
K	Wie viel ist 42 geteilt durch 6?	7

3a

A	Wie viel ist 18 geteilt durch 6?	3
B	Wie viel ist 30 geteilt durch 6?	5
C	Wie viel ist 0 geteilt durch 6?	0
D	Wie viel ist 48 geteilt durch 6?	8

1b

E	Wie viel ist 12 geteilt durch 6?	2
F	Wie viel ist 60 geteilt durch 6?	10
G	Wie viel ist 24 geteilt durch 6?	4
H	Wie viel ist 36 geteilt durch 6?	6

2b

K	Wie viel ist 9 geteilt durch 9?	1
L	Wie viel ist 18 geteilt durch 9?	2
M	Wie viel ist 54 geteilt durch 9?	6

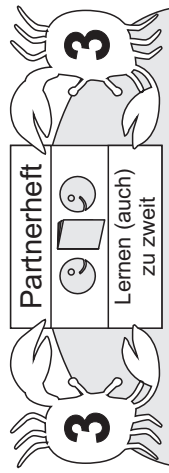
3c

epu3

Ende

A

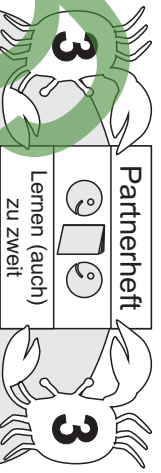
Lies die Antworten der anderen 10 Aufgaben vorlesen.
 Anschließend das Heft um und lass dir dann von deinem Partner / deiner Partnerin die anderen 10 Aufgaben vorlesen.
 ihre Antworten richtig. Drehe / seine 3 Seiten vor und von anderen Partner / Partnerin die anderen 10 Aufgaben vorlesen.
 3 Seiten vor und überprüfe, ob seine / ihre Antworten richtig sind. Drehe anschließend das Heft um und lass dir dann von deinem Partner / deiner Partnerin die anderen 10 Aufgaben vorlesen.



3 Heft
 9 je 10 Aufgaben
 umzulegen
 Teil

A	12 geteilt durch wie viel ist 6?	2
B	48 geteilt durch wie viel ist 6?	8
C	24 geteilt durch wie viel ist 6?	4
D	60 geteilt durch wie viel ist 6?	10

1a



Teilaufgaben zum Einmaleins der 6 Heft 3
 Lies deinem Partner / deiner Partnerin die 10 Aufgaben auf den folgenden 3 Seiten vor und überprüfe, ob seine / ihre Antworten richtig sind. Drehe anschließend das Heft um und lass dir dann von deinem Partner / deiner Partnerin die anderen 10 Aufgaben vorlesen.

B

E	36 geteilt durch wie viel ist 6?	6
F	18 geteilt durch wie viel ist 6?	3
G	6 geteilt durch wie viel ist 6?	1
H	54 geteilt durch wie viel ist 6?	9

2a

A	24 geteilt durch wie viel ist 6?	4
B	60 geteilt durch wie viel ist 6?	10
C	30 geteilt durch wie viel ist 6?	5
D	18 geteilt durch wie viel ist 6?	3

1b

I	42 geteilt durch wie viel ist 6?	7
J	30 geteilt durch wie viel ist 6?	5

Ende

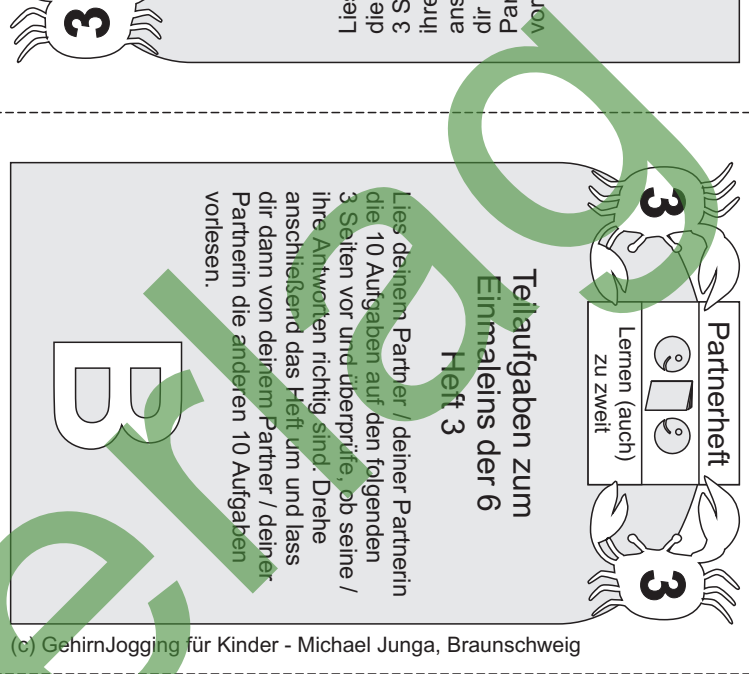
3a

E	54 geteilt durch wie viel ist 6?	9
F	36 geteilt durch wie viel ist 6?	6
G	12 geteilt durch wie viel ist 6?	2
H	42 geteilt durch wie viel ist 6?	7

2b

8	?	9	si
1	?	9	si
1	?	9	si

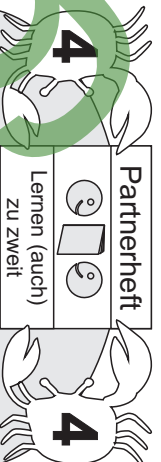
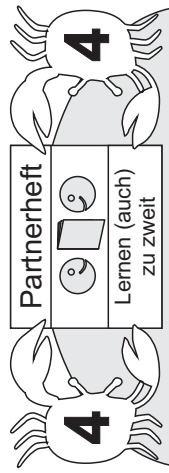
3c



A

vorlesen.

Lies deinem Partner / deiner Partnerin die anderen 10 Aufgaben
anschießend das Heft um und lass
un und um und überprüfe, ob seine /
ihre Antworten richtig sind. Drehe
/ seine 30 Seiten vor und überprüfe, ob seine /
ihre Antworten richtig sind. Drehe
die 10 Aufgaben auf den folgenden
3 Seiten vor und überprüfe, ob seine /
ihre Antworten richtig sind. Drehe
anschießend das Heft um und lass
dir dann von deinem Partner / deiner
Partnerin die anderen 10 Aufgaben
vorlesen.



Teilaufgaben zum Einmaleins der 6 Heft 4

Lies deinem Partner / deiner Partnerin die 10 Aufgaben auf den folgenden 3 Seiten vor und überprüfe, ob seine / ihre Antworten richtig sind. Drehe anschließend das Heft um und lass dir dann von deinem Partner / deiner Partnerin die anderen 10 Aufgaben vorlesen.

B

(c) GehirnJogging für Kinder - Michael Junga, Braunschweig

A	6 ist 12 geteilt durch wie viel?	2
B	6 ist 36 geteilt durch wie viel?	6
C	6 ist 24 geteilt durch wie viel?	4
D	6 ist 54 geteilt durch wie viel?	9

1a

E	6 ist 6 geteilt durch wie viel?	1
F	6 ist 48 geteilt durch wie viel?	8
G	6 ist 30 geteilt durch wie viel?	5
H	6 ist 18 geteilt durch wie viel?	3

2a

A	6 ist 18 geteilt durch wie viel?	3
B	6 ist 30 geteilt durch wie viel?	5
C	6 ist 48 geteilt durch wie viel?	8
D	6 ist 12 geteilt durch wie viel?	2

1b

I	6 ist 60 geteilt durch wie viel?	10
J	6 ist 42 geteilt durch wie viel?	7

Ende

3a


E	6 ist 60 geteilt durch wie viel?	10
F	6 ist 24 geteilt durch wie viel?	4
G	6 ist 36 geteilt durch wie viel?	6
H	6 ist 6 geteilt durch wie viel?	1

2b

6	?	6
ist	geteilt durch	ist
6	?	6
ist	geteilt durch	ist
6	?	6
ist	geteilt durch	ist
6	?	6
ist	geteilt durch	ist

9c

A




2 Hef 2
Einmaleins der 7
Teilaufgaben zum

Lies deinem Partner / deiner Partnerin die 11 Aufgaben auf den folgenden 3 Seiten vor und überprüfe, ob seine / ihre Antworten richtig sind. Drehe anschließend das Heft um und lass dir dann von deinem Partner / deiner Partnerin die anderen 11 Aufgaben vorlesen.

A	Wie viel ist 35 geteilt durch 7?	5
B	Wie viel ist 7 geteilt durch 7?	1
C	Wie viel ist 49 geteilt durch 7?	7
D	Wie viel ist 0 geteilt durch 7?	0

1a



2 Hef 2
Teilaufgaben zum Einmaleins der 7

Lies deinem Partner / deiner Partnerin die 11 Aufgaben auf den folgenden 3 Seiten vor und überprüfe, ob seine / ihre Antworten richtig sind. Drehe anschließend das Heft um und lass dir dann von deinem Partner / deiner Partnerin die anderen 11 Aufgaben vorlesen.

B

E	Wie viel ist 21 geteilt durch 7?	3
F	Wie viel ist 70 geteilt durch 7?	10
G	Wie viel ist 14 geteilt durch 7?	2
H	Wie viel ist 42 geteilt durch 7?	6

2a

(c) GehirnJogging für Kinder - Michael Junga, Braunschweig

A	Wie viel ist 14 geteilt durch 7?	2
B	Wie viel ist 42 geteilt durch 7?	6
C	Wie viel ist 63 geteilt durch 7?	9
D	Wie viel ist 28 geteilt durch 7?	4

1b

I	Wie viel ist 63 geteilt durch 7?	9
J	Wie viel ist 28 geteilt durch 7?	4
K	Wie viel ist 56 geteilt durch 7?	8

3a

E	Wie viel ist 70 geteilt durch 7?	10
F	Wie viel ist 49 geteilt durch 7?	7
G	Wie viel ist 0 geteilt durch 7?	0
H	Wie viel ist 35 geteilt durch 7?	5

2b

K	Wie viel ist 21 geteilt durch 7?	3
J	Wie viel ist 7 geteilt durch 7?	1
I	Wie viel ist 56 geteilt durch 7?	8

3c


Ende

A

vorlesen.

Lies deinem Partner / deiner Partnerin die 10 Aufgaben auf den folgenden 3 Seiten vor und überprüfe, ob seine / ihre Antworten richtig sind. Drehe anschließend das Heft um und lass dir dann von deinem Partner / deiner Partnerin die anderen 10 Aufgaben vorlesen.

3 Heft
7 je einmal ein
unz ungegungteil



A	56 geteilt durch wie viel ist 7?	8
B	28 geteilt durch wie viel ist 7?	4
C	63 geteilt durch wie viel ist 7?	9
D	42 geteilt durch wie viel ist 7?	6

1a

B

Lernen (auch) zu zweit

Teilaufgaben zum Einmaleins der 7 Heft 3

Lies deinem Partner / deiner Partnerin die 10 Aufgaben auf den folgenden 3 Seiten vor und überprüfe, ob seine / ihre Antworten richtig sind. Drehe anschließend das Heft um und lass dir dann von deinem Partner / deiner Partnerin die anderen 10 Aufgaben vorlesen.

B

E	14 geteilt durch wie viel ist 7?	2
F	70 geteilt durch wie viel ist 7?	10
G	21 geteilt durch wie viel ist 7?	3
H	49 geteilt durch wie viel ist 7?	7

2a

A

21 geteilt durch wie viel ist 7?

3

7 geteilt durch wie viel ist 7?

1

56 geteilt durch wie viel ist 7?

8

35 geteilt durch wie viel ist 7?

5

1b

E

49 geteilt durch wie viel ist 7?

7

28 geteilt durch wie viel ist 7?

4

70 geteilt durch wie viel ist 7?

10

63 geteilt durch wie viel ist 7?

9

2b

I

7 geteilt durch wie viel ist 7?

1

35 geteilt durch wie viel ist 7?

5

Ende

3a

9c

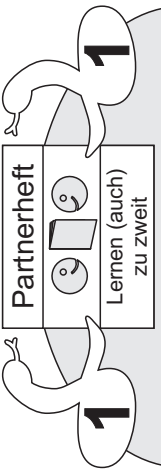
2	? 2 ist durch wie viel geteilt	J
9	? 2 ist durch wie viel geteilt	I

epuq

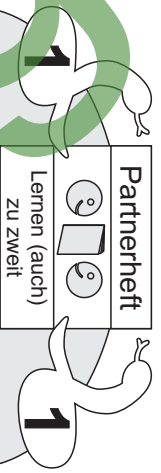
A

vorlesen.

Lies deinem Partner / deiner Partnerin die 11 Aufgaben vor und lass anschließend das Heft um und lasse ihre Antworten richtig und falsch auf die 3 Seiten vor und überprüfe, ob seine / ihre Antworten richtig sind. Drehe dir dann von deinem Partner / deiner Partnerin die anderen 11 Aufgaben vor.



1 Heft
8 je 11 Aufgaben
wurz nebegangneiteil



Teilaufgaben zum Einmaleins der 8 Heft 1

Lies deinem Partner / deiner Partnerin die 11 Aufgaben auf den folgenden 3 Seiten vor und überprüfe, ob seine / ihre Antworten richtig sind. Drehe anschließend das Heft um und lasse dir dann von deinem Partner / deiner Partnerin die anderen 11 Aufgaben vorlesen.

B

(c) GehirnJogging für Kinder - Michael Junga, Braunschweig

A	64 geteilt durch 8 ist wie viel?	8
B	32 geteilt durch 8 ist wie viel?	4
C	72 geteilt durch 8 ist wie viel?	9
D	48 geteilt durch 8 ist wie viel?	6

1a

E	16 geteilt durch 8 ist wie viel?	2
F	80 geteilt durch 8 ist wie viel?	10
G	24 geteilt durch 8 ist wie viel?	3
H	0 geteilt durch 8 ist wie viel?	0

2a

A	32 geteilt durch 8 ist wie viel?	4
B	8 geteilt durch 8 ist wie viel?	1
C	64 geteilt durch 8 ist wie viel?	8
D	40 geteilt durch 8 ist wie viel?	5

1b

I	56 geteilt durch 8 ist wie viel?	7
J	8 geteilt durch 8 ist wie viel?	1
K	40 geteilt durch 8 ist wie viel?	5

3a

E	0 geteilt durch 8 ist wie viel?	0
F	56 geteilt durch 8 ist wie viel?	7
G	80 geteilt durch 8 ist wie viel?	10
H	24 geteilt durch 8 ist wie viel?	3

2b

I	22 geteilt durch 8 ist wie viel?	6
J	48 geteilt durch 8 ist wie viel?	9
K	91 geteilt durch 8 ist wie viel?	2

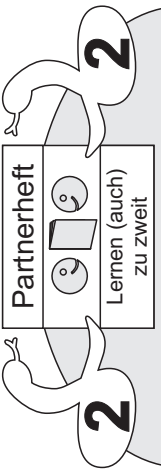
3c

Ende

A

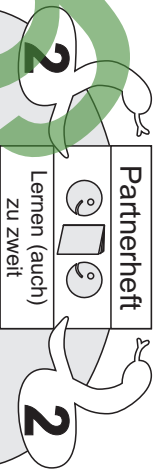
Lies deinem Partner / deiner Partnerin die 11 Aufgaben auf den folgenden 3 Seiten vor und überprüfe, ob seine / ihre Antworten richtig sind. Drehe anschließend das Heft um und lass dir dann von deinem Partner / deiner Partnerin die anderen 11 Aufgaben vorlesen.

2 Heft
Einmal eins der 8 Teilaufgaben



A Wie viel ist 40 geteilt durch 8?	5
B Wie viel ist 8 geteilt durch 8?	1
C Wie viel ist 56 geteilt durch 8?	7
D Wie viel ist 0 geteilt durch 8?	0

1a



Lies deinem Partner / deiner Partnerin die 11 Aufgaben auf den folgenden 3 Seiten vor und überprüfe, ob seine / ihre Antworten richtig sind. Drehe anschließend das Heft um und lass dir dann von deinem Partner / deiner Partnerin die anderen 11 Aufgaben vorlesen.

2 Teilaufgaben zum Einmaleins der 8 Heft 2

B

E Wie viel ist 32 geteilt durch 8?	4
F wie viel ist 80 geteilt durch 8?	10
G Wie viel ist 16 geteilt durch 8?	2
H Wie viel ist 48 geteilt durch 8?	6

2a

A Wie viel ist 16 geteilt durch 8?	2
B Wie viel ist 48 geteilt durch 8?	6
C Wie viel ist 72 geteilt durch 8?	9
D Wie viel ist 32 geteilt durch 8?	4

1b

E Wie viel ist 80 geteilt durch 8?	10
F Wie viel ist 56 geteilt durch 8?	7
G Wie viel ist 0 geteilt durch 8?	0
H Wie viel ist 40 geteilt durch 8?	5

2b

I Wie viel ist 72 geteilt durch 8?	9
J Wie viel ist 24 geteilt durch 8?	3
K Wie viel ist 64 geteilt durch 8?	8

3a

L Wie viel ist 8 geteilt durch 8?	1
M Wie viel ist 24 geteilt durch 8?	3
N Wie viel ist 64 geteilt durch 8?	8

3c

A

vorlesen.

Lies deinem Partner / deiner Partnerin die 10 Aufgaben auf den folgenden 3 Seiten vor und überprüfe, ob seine / ihre Antworten richtig sind. Drehe anschließend das Heft um und lass dir dann von deinem Partner / deiner Partnerin die anderen 10 Aufgaben vorlesen.

3 Partnerheft
Lernen (auch) zu zweit

3 Heft
8 der einzelnen
Teilaufgaben

3 Partnerheft
Lernen (auch) zu zweit

3 Teilaufgaben zum
Einmaleins der 8
Heft 3

Lies deinem Partner / deiner Partnerin die 10 Aufgaben auf den folgenden 3 Seiten vor und überprüfe, ob seine / ihre Antworten richtig sind. Drehe anschließend das Heft um und lass dir dann von deinem Partner / deiner Partnerin die anderen 10 Aufgaben vorlesen.

B

(c) GehirnJogging für Kinder - Michael Junga, Braunschweig

A 64 geteilt
durch wie viel
ist 8? 8

B 32 geteilt
durch wie viel
ist 8? 4

C 72 geteilt
durch wie viel
ist 8? 9

D 48 geteilt
durch wie viel
ist 8? 6

1a

E 16 geteilt
durch wie viel
ist 8? 2

F 80 geteilt
durch wie viel
ist 8? 10

G 24 geteilt
durch wie viel
ist 8? 3

H 56 geteilt
durch wie viel
ist 8? 7

2a

A 24 geteilt
durch wie viel
ist 8? 3

B 8 geteilt
durch wie viel
ist 8? 1

C 64 geteilt
durch wie viel
ist 8? 8

D 40 geteilt
durch wie viel
ist 48? 5

1b

I 8 geteilt
durch wie viel
ist 8? 1

J 40 geteilt
durch wie viel
ist 8? 5

Ende

3a

E 56 geteilt
durch wie viel
ist 8? 7

F 80 geteilt
durch wie viel
ist 8? 10

G 16 geteilt
durch wie viel
ist 8? 2

H 48 geteilt
durch wie viel
ist 8? 6

2b

I 32 geteilt
durch wie viel
ist 8? 4

J 24 geteilt
durch wie viel
ist 8? 3

3c

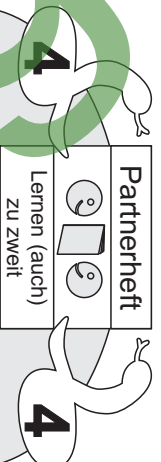
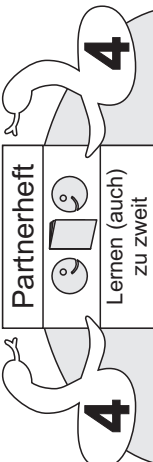
epu3

A

vorlesen.

Lies deinem Partner / deiner Partnerin die 10 Aufgaben auf den folgenden 3 Seiten vor und überprüfe, ob seine / ihre Antworten richtig sind. Drehe anschließend das Heft um und lass dir dann von deinem Partner / deiner Partnerin die anderen 10 Aufgaben vorlesen.

4 Heft 1
8 je **Einmal**
unz **Teilaufgaben**



Teil **aufgaben** **zum**
Einmal **eins** **der** **8**
Heft **4**

Lies deinem Partner / deiner Partnerin die 10 Aufgaben auf den folgenden 3 Seiten vor und überprüfe, ob seine / ihre Antworten richtig sind. Drehe anschließend das Heft um und lass dir dann von deinem Partner / deiner Partnerin die anderen 10 Aufgaben vorlesen.

B

(c) GehirnJogging für Kinder - Michael Junga, Braunschweig

A 8 ist 40 geteilt durch wie viel?	5
B 8 ist 8 geteilt durch wie viel?	1
C 8 ist 56 geteilt durch wie viel?	7
D 8 ist 24 geteilt durch wie viel?	3

1a

E 8 ist 80 geteilt durch wie viel?	10
F 8 ist 16 geteilt durch wie viel?	2
G 8 ist 48 geteilt durch wie viel?	6
H 8 ist 72 geteilt durch wie viel?	9

2a

I 8 ist 32 geteilt durch wie viel?	4
J 8 ist 64 geteilt durch wie viel?	8

Ende

3a

A 8 ist 16 geteilt durch wie viel?	2
B 8 ist 48 geteilt durch wie viel?	6
C 8 ist 72 geteilt durch wie viel?	9
D 8 ist 56 geteilt durch wie viel?	7

1b

E 8 ist 8 geteilt durch wie viel?	1
F 8 ist 24 geteilt durch wie viel?	3
G 8 ist 40 geteilt durch wie viel?	5
H 8 ist 64 geteilt durch wie viel?	8

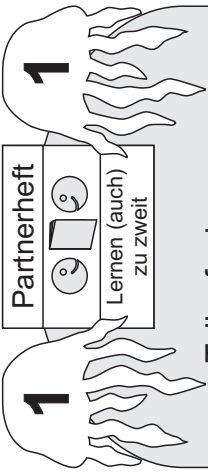
2b

4	Wie viel ist 4 geteilt durch 8?	I
10	Wie viel ist 10 geteilt durch 8?	J

9c

epuq

A




1 Heft
6 je r suie l ein
unz ueb g a n g l a n t e i l

Lies deinem Partner / deiner Partnerin die 11 Aufgaben auf den folgenden 3 Seiten vor und überprüfe, ob seine / ihre Antworten richtig sind. Drehe anschließend das Heft um und lass dir dann von deinem Partner / deiner Partnerin die anderen 11 Aufgaben vorlesen.

A	27 geteilt durch 9 ist wie viel?	3
B	9 geteilt durch 9 ist wie viel?	1
C	63 geteilt durch 9 ist wie viel?	7
D	0 geteilt durch 9 ist wie viel?	0

1a



B

Teilaufgaben zum Einmaleins der 9 Heft 1

Lies deinem Partner / deiner Partnerin die 11 Aufgaben auf den folgenden 3 Seiten vor und überprüfe, ob seine / ihre Antworten richtig sind. Drehe anschließend das Heft um und lass dir dann von deinem Partner / deiner Partnerin die anderen 11 Aufgaben vorlesen.

E	90 geteilt durch 9 ist wie viel?	10
F	36 geteilt durch 9 ist wie viel?	4
G	18 geteilt durch 9 ist wie viel?	2
H	54 geteilt durch 9 ist wie viel?	6

2a

A	18 geteilt durch 9 ist wie viel?	2
B	45 geteilt durch 9 ist wie viel?	5
C	72 geteilt durch 9 ist wie viel?	8
D	27 geteilt durch 9 ist wie viel?	3

1b

E	54 geteilt durch 9 ist wie viel?	6
F	81 geteilt durch 9 ist wie viel?	9
G	0 geteilt durch 9 ist wie viel?	0
H	63 geteilt durch 9 ist wie viel?	7

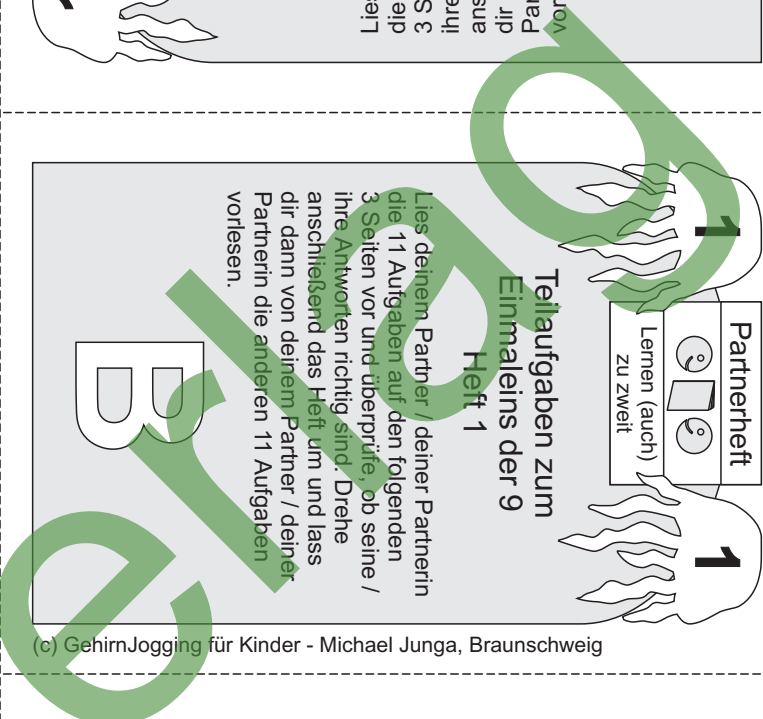
2b

I	81 geteilt durch 9 ist wie viel?	9
J	45 geteilt durch 9 ist wie viel?	5
K	72 geteilt durch 9 ist wie viel?	8

3a

I	6 geteilt durch 9 ist wie viel?	1
J	36 geteilt durch 9 ist wie viel?	4
K	06 geteilt durch 9 ist wie viel?	01

3c

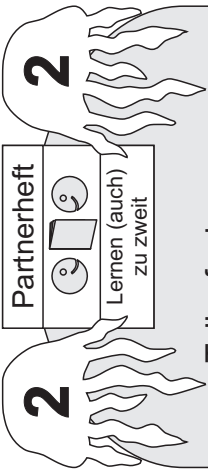


A

vorlesen.


Lies deinem Partner / deiner Partnerin die 11 Aufgaben auf den folgenden 3 Seiten vor und überprüfe, ob seine / ihre Antworten richtig sind. Drehe anschließend das Heft um und lass dir dann von deinem Partner / deiner Partnerin die anderen 11 Aufgaben vorlesen.

2 Heft
Einmal eins der 9 Teilaufgaben



A	Wie viel ist 0 geteilt durch 9?	0
B	Wie viel ist 27 geteilt durch 9?	3
C	Wie viel ist 54 geteilt durch 9?	6
D	Wie viel ist 9 geteilt durch 9?	1

1a



2
Teilaufgaben zum Einmaleins der 9 Heft 2

Lies deinem Partner / deiner Partnerin die 11 Aufgaben auf den folgenden 3 Seiten vor und überprüfe, ob seine / ihre Antworten richtig sind. Drehe anschließend das Heft um und lass dir dann von deinem Partner / deiner Partnerin die anderen 11 Aufgaben vorlesen.

B

E	Wie viel ist 90 geteilt durch 9?	10
F	Wie viel ist 45 geteilt durch 9?	5
G	Wie viel ist 18 geteilt durch 9?	2
H	Wie viel ist 72 geteilt durch 9?	8

2a

(c) GehirnJogging für Kinder - Michael Junga, Braunschweig

A	Wie viel ist 9 geteilt durch 9?	1
B	Wie viel ist 54 geteilt durch 9?	6
C	Wie viel ist 0 geteilt durch 9?	0
D	Wie viel ist 63 geteilt durch 9?	7

1b

I	Wie viel ist 36 geteilt durch 9?	4
J	Wie viel ist 81 geteilt durch 9?	9
K	Wie viel ist 63 geteilt durch 9?	7

3a

E	Wie viel ist 36 geteilt durch 9?	4
F	Wie viel ist 90 geteilt durch 9?	10
G	Wie viel ist 45 geteilt durch 9?	5
H	Wie viel ist 18 geteilt durch 9?	2

2b

I	Wie viel ist 81 geteilt durch 9?	9
J	Wie viel ist 27 geteilt durch 9?	3
K	Wie viel ist 63 geteilt durch 9?	7

3c

Ende

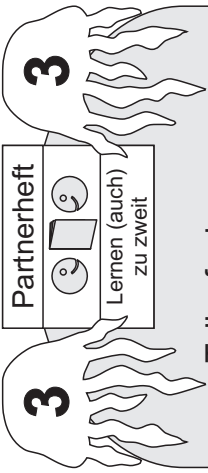
Ende

A

vorlesen.


Lies deinem Partner / deiner Partnerin die 10 Aufgaben auf den folgenden 3 Seiten vor und überprüfe, ob seine / ihre Antworten richtig sind. Drehe anschließend das Heft um und lass dir dann von deinem Partner / deiner Partnerin die anderen 10 Aufgaben vorlesen.

3 Heft
6 je **Einmaleins**
unz **abgab** **un** **teile**



A	45 geteilt durch wie viel ist 9?	5
B	18 geteilt durch wie viel ist 9?	2
C	72 geteilt durch wie viel ist 9?	8
D	27 geteilt durch wie viel ist 9?	3

1a



Teilaufgaben zum Einmaleins der 9 Heft 3

Lies deinem Partner / deiner Partnerin die 10 Aufgaben auf den folgenden 3 Seiten vor und überprüfe, ob seine / ihre Antworten richtig sind. Drehe anschließend das Heft um und lass dir dann von deinem Partner / deiner Partnerin die anderen 10 Aufgaben vorlesen.

B

E	54 geteilt durch wie viel ist 9?	6
F	81 geteilt durch wie viel ist 9?	9
G	63 geteilt durch wie viel ist 9?	7
H	9 geteilt durch wie viel ist 9?	1

2a

A	27 geteilt durch wie viel ist 9?	3
B	9 geteilt durch wie viel ist 9?	1
C	63 geteilt durch wie viel ist 9?	7
D	90 geteilt durch wie viel ist 9?	10

1b

E	36 geteilt durch wie viel ist 9?	4
F	18 geteilt durch wie viel ist 9?	2
G	54 geteilt durch wie viel ist 9?	6
H	81 geteilt durch wie viel ist 9?	9

2b

I	36 geteilt durch wie viel ist 9?	4
J	90 geteilt durch wie viel ist 9?	10

Ende

3a

8	? 6 si durch wie viel ist 9?	J
5	? 6 si durch wie viel ist 9?	I

3c

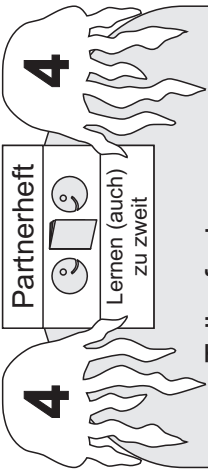
(c) GehirnJogging für Kinder - Michael Junga, Braunschweig

A

vorlesen.


Lies deinem Partner / deiner Partnerin die 10 Aufgaben auf den folgenden 3 Seiten vor und überprüfe, ob seine / ihre Antworten richtig sind. Drehe anschließend das Heft um und lass dir dann von deinem Partner / deiner Partnerin die anderen 10 Aufgaben vorlesen.

4 Heft
6 je **1** **1** **1** **1** **1** **1** **1** **1** **1**
unz **unz** **unz** **unz** **unz** **unz** **unz** **unz** **unz** **unz**
Teilaufgaben



A	9 ist 27 geteilt durch wie viel?	3
B	9 ist 54 geteilt durch wie viel?	6
C	9 ist 9 geteilt durch wie viel?	1
D	9 ist 90 geteilt durch wie viel?	10

1a



4
4
Teilaufgaben zum
Einmaleins der 9
Heft 4

Lies deinem Partner / deiner Partnerin die 10 Aufgaben auf den folgenden 3 Seiten vor und überprüfe, ob seine / ihre Antworten richtig sind. Drehe anschließend das Heft um und lass dir dann von deinem Partner / deiner Partnerin die anderen 10 Aufgaben vorlesen.

B

E	9 ist 45 geteilt durch wie viel?	5
F	9 ist 18 geteilt durch wie viel?	2
G	9 ist 72 geteilt durch wie viel?	8
H	9 ist 36 geteilt durch wie viel?	4

2a

A	9 ist 9 geteilt durch wie viel?	1
B	9 ist 36 geteilt durch wie viel?	4
C	9 ist 63 geteilt durch wie viel?	7
D	9 ist 45 geteilt durch wie viel?	5

1b

I	9 ist 63 geteilt durch wie viel?	7
J	9 ist 81 geteilt durch wie viel?	9

3a

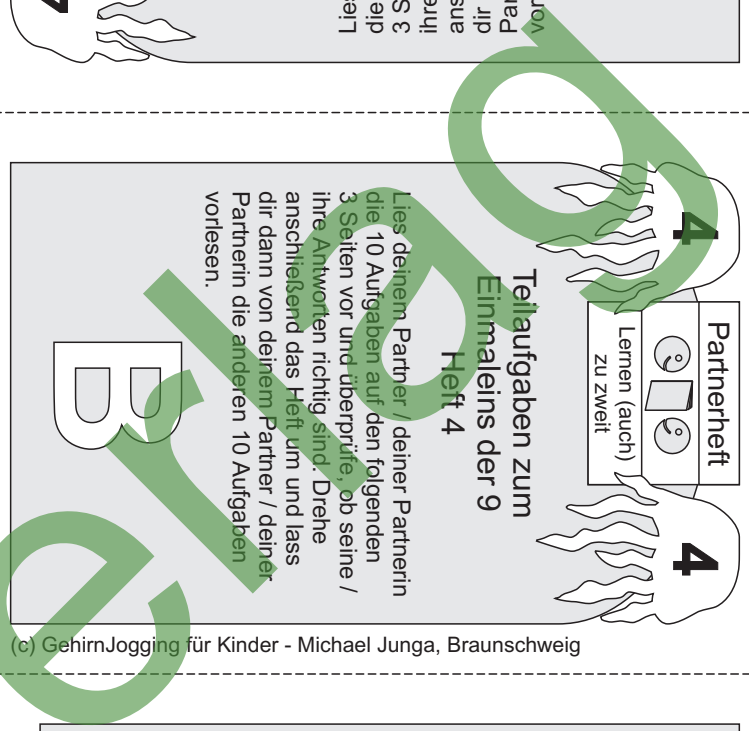
E	9 ist 90 geteilt durch wie viel?	10
F	9 ist 54 geteilt durch wie viel?	6
G	9 ist 18 geteilt durch wie viel?	2
H	9 ist 81 geteilt durch wie viel?	9

2b

8	?	?
3	?	?

epuq

9c



A

Lies die Aufgaben von deinem Partner / deiner Partnerin die anderen 12 Aufgaben anschließend das Heft um und lass deine Partnerin / deinen Partner ihre Antworten richtig und falsch überprüfen. Drehe das Heft um und überprüfe, ob seine / ihre Antworten richtig sind. Drehe anschließend das Heft um und lass dir dann von deinem Partner / deiner Partnerin die anderen 12 Aufgaben vorlesen.

Partnerheft
 1 Heft
 Gemischte Teilaufgaben
 1 Heft
 Lernen (auch zu zweit)

A	56 geteilt durch 7 ist wie viel?	8
B	36 geteilt durch 9 ist wie viel?	4
C	42 geteilt durch 6 ist wie viel?	7
D	24 geteilt durch 8 ist wie viel?	3

1a

Partnerheft
 1 Heft
 Gemischte Teilaufgaben
 1 Heft
 Lernen (auch zu zweit)

Lies deinem Partner / deiner Partnerin die 12 Aufgaben auf den folgenden 3 Seiten vor und überprüfe, ob seine / ihre Antworten richtig sind. Drehe anschließend das Heft um und lass dir dann von deinem Partner / deiner Partnerin die anderen 12 Aufgaben vorlesen.

B

E	30 geteilt durch 6 ist wie viel?	5
F	18 geteilt durch 2 ist wie viel?	9
G	24 geteilt durch 4 ist wie viel?	6
H	63 geteilt durch 7 ist wie viel?	9

2a

A	24 geteilt durch 6 ist wie viel?	4
B	40 geteilt durch 5 ist wie viel?	8
C	28 geteilt durch 4 ist wie viel?	7
D	42 geteilt durch 7 ist wie viel?	6

1b

E	27 geteilt durch 9 ist wie viel?	3
F	16 geteilt durch 8 ist wie viel?	2
G	20 geteilt durch 5 ist wie viel?	4
H	48 geteilt durch 6 ist wie viel?	8

2b

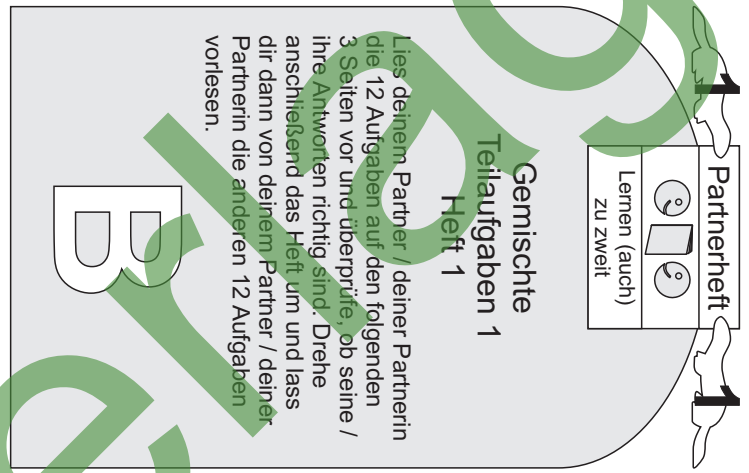
I	32 geteilt durch 4 ist wie viel?	8
J	45 geteilt durch 9 ist wie viel?	5
K	35 geteilt durch 5 ist wie viel?	7
L	48 geteilt durch 8 ist wie viel?	6

3a

Ende

I	6 geteilt durch 3 ist wie viel?	2
J	9 geteilt durch 3 ist wie viel?	3
K	12 geteilt durch 4 ist wie viel?	3
L	18 geteilt durch 6 ist wie viel?	3

3c



A

vorlesen.

Lies deinem Partner / deiner Partnerin die 12 Aufgaben auf den folgenden 3 Seiten vor und überprüfe, ob seine / ihre Antworten richtig sind. Drehe anschließend das Heft um und lass dir dann von deinem Partner / deiner Partnerin die anderen 12 Aufgaben vorlesen.

2 Heft 1 Teilaufgaben

Lernen (auch)
zu zweit



A	Wie viel ist 48 geteilt durch 6?	8
B	Wie viel ist 35 geteilt durch 7?	5
C	Wie viel ist 45 geteilt durch 5?	9
D	Wie viel ist 32 geteilt durch 8?	4

1a

Partnerheft
Lernen (auch)
zu zweit

Gemischte Teilaufgaben 1 Heft 2

Lies deinem Partner / deiner Partnerin die 12 Aufgaben auf den folgenden 3 Seiten vor und überprüfe, ob seine / ihre Antworten richtig sind. Drehe anschließend das Heft um und lass dir dann von deinem Partner / deiner Partnerin die anderen 12 Aufgaben vorlesen.

B

E	Wie viel ist 63 geteilt durch 9?	7
F	Wie viel ist 24 geteilt durch 6?	4
G	Wie viel ist 18 geteilt durch 9?	2
H	Wie viel ist 30 geteilt durch 5?	6

2a

A	Wie viel ist 54 geteilt durch 6?	9
B	Wie viel ist 32 geteilt durch 8?	4
C	Wie viel ist 35 geteilt durch 5?	7
D	Wie viel ist 36 geteilt durch 9?	4

1b

E	Wie viel ist 20 geteilt durch 4?	5
F	Wie viel ist 48 geteilt durch 8?	6
G	Wie viel ist 16 geteilt durch 2?	8
H	Wie viel ist 27 geteilt durch 3?	9

2b

I	Wie viel ist 80 geteilt durch 10?	8
J	Wie viel ist 42 geteilt durch 7?	6
K	Wie viel ist 36 geteilt durch 4?	9
L	Wie viel ist 56 geteilt durch 8?	7

3a

Ende

9	4 durch 2 ist	I
5	8 durch 4 ist	J
4	7 durch 7 ist	K
2	9 durch 9 ist	L

9c

Ende

A

Lies die Aufgaben von deinem Partner / deiner Partnerin die anderen 12 Aufgaben anschließend das Heft um und lass dich von deinem Partner / deiner Partnerin die anderen 12 Aufgaben vorlesen.

3 Heft
1 ungelobte Aufgabe
Gemischte

Partnerheft
Lernen (auch zu zweit)

A 24 geteilt durch wie viel ist 4?	6
B 40 geteilt durch wie viel ist 8?	5
C 28 geteilt durch wie viel ist 7?	4
D 42 geteilt durch wie viel ist 6?	7

1a

Partnerheft
Lernen (auch zu zweit)

Gemischte
Teilaufgaben 1
Heft 3

Lies deinem Partner / deiner Partnerin die 12 Aufgaben auf den folgenden 3 Seiten vor und überprüfe, ob seine / ihre Antworten richtig sind. Drehe anschließend das Heft um und lass dir dann von deinem Partner / deiner Partnerin die anderen 12 Aufgaben vorlesen.

B

E 27 geteilt durch wie viel ist 3?	9
F 16 geteilt durch wie viel ist 2?	8
G 20 geteilt durch wie viel ist 4?	5
H 48 geteilt durch wie viel ist 8?	6

2a

A 24 geteilt durch wie viel ist 6?	6
B 40 geteilt durch wie viel ist 8?	5
C 28 geteilt durch wie viel ist 7?	4
D 42 geteilt durch wie viel ist 6?	7

1b

E 27 geteilt durch wie viel ist 3?	9
F 16 geteilt durch wie viel ist 2?	8
G 20 geteilt durch wie viel ist 4?	5
H 48 geteilt durch wie viel ist 8?	6

2b

I 36 geteilt durch wie viel ist 9?	4
J 35 geteilt durch wie viel ist 5?	7
K 54 geteilt durch wie viel ist 6?	9
L 32 geteilt durch wie viel ist 4?	8

3a

Ende

4	? 8 ist wie viel geteilt 62	I
6	? 9 ist wie viel geteilt 65	J
2	? 5 ist wie viel geteilt 53	K
4	? 6 ist wie viel geteilt 93	L

3c

Ende

A

Partnerheft **4**

Lernen (auch) zu zweit

4 Partnerheft **4**

Gemischte Teilaufgaben

1 unbenutzte Teilaufgaben

4 Heft

Lies deinem Partner / deiner Partnerin die 12 Aufgaben auf den folgenden 3 Seiten vor und überprüfe, ob seine / ihre Antworten richtig sind. Drehe anschließend das Heft um und lass dir dann von deinem Partner / deiner Partnerin die anderen 12 Aufgaben vorlesen.

A	8 ist 48 geteilt durch wie viel?	6
B	5 ist 35 geteilt durch wie viel?	7
C	9 ist 45 geteilt durch wie viel?	5
D	4 ist 32 geteilt durch wie viel?	8

1a

Partnerheft **4**

Lernen (auch) zu zweit

Gemischte Teilaufgaben 1

Heft 4

Lies deinem Partner / deiner Partnerin die 12 Aufgaben auf den folgenden 3 Seiten vor und überprüfe, ob seine / ihre Antworten richtig sind. Drehe anschließend das Heft um und lass dir dann von deinem Partner / deiner Partnerin die anderen 12 Aufgaben vorlesen.

B

E	7 ist 63 geteilt durch wie viel?	9
F	4 ist 24 geteilt durch wie viel?	6
G	2 ist 18 geteilt durch wie viel?	9
H	6 ist 30 geteilt durch wie viel?	5

2a

A	8 ist 32 geteilt durch wie viel?	4
B	9 ist 54 geteilt durch wie viel?	6
C	7 ist 35 geteilt durch wie viel?	5
D	4 ist 36 geteilt durch wie viel?	9

1b

I	7 ist 70 geteilt durch wie viel?	10
J	6 ist 42 geteilt durch wie viel?	7
K	9 ist 36 geteilt durch wie viel?	4
L	7 ist 56 geteilt durch wie viel?	8

3a

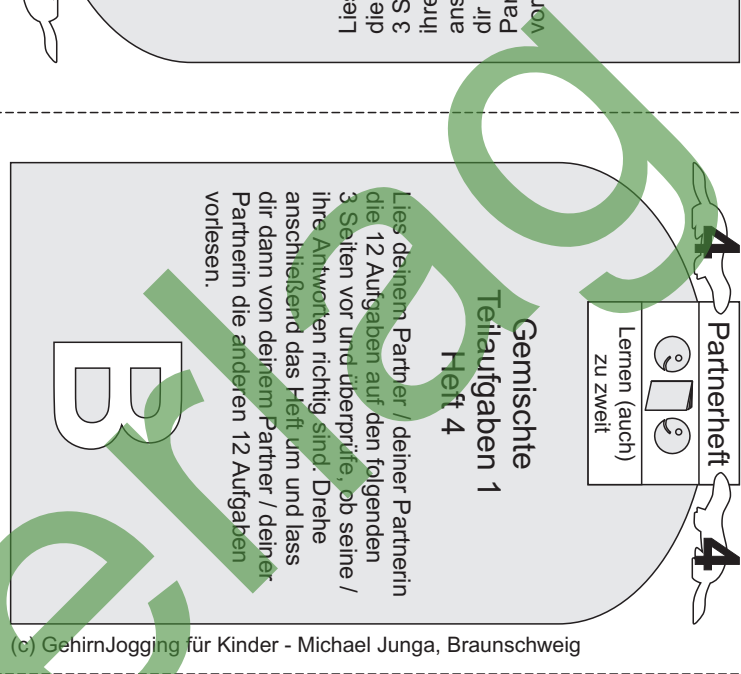
E	6 ist 48 geteilt durch wie viel?	8
F	5 ist 20 geteilt durch wie viel?	4
G	8 ist 16 geteilt durch wie viel?	2
H	9 ist 27 geteilt durch wie viel?	3

2b

Ende

4	Wie viel ist 48 geteilt durch 6?	I
8	Wie viel ist 20 geteilt durch 5?	J
2	Wie viel ist 16 geteilt durch 8?	K
9	Wie viel ist 27 geteilt durch 9?	L

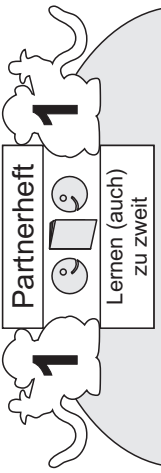
3c



A

Lies die Aufgaben von deinem Partner / deiner Partnerin die anderen 12 Aufgaben anschließend das Heft um und lass ihre Antworten richtig und falsch überprüfen. Drehe das Heft um und überprüfe, ob seine / ihre Antworten richtig sind. Drehe anschließend das Heft um und lass dir dann von deinem Partner / deiner Partnerin die anderen 12 Aufgaben vorlesen.

1 Heft 2 Teilaufgaben Gemischte



A	24 geteilt durch 4 ist wie viel?	6
B	81 geteilt durch 9 ist wie viel?	9
C	16 geteilt durch 2 ist wie viel?	8
D	56 geteilt durch 8 ist wie viel?	7

1a

Partnerheft 1 Lernen (auch) zu zweit

Lies deinem Partner / deiner Partnerin die 12 Aufgaben auf den folgenden 3 Seiten vor und überprüfe, ob seine / ihre Antworten richtig sind. Drehe anschließend das Heft um und lass dir dann von deinem Partner / deiner Partnerin die anderen 12 Aufgaben vorlesen.

B

Gemischte Teilaufgaben 2 Heft 1

E	24 geteilt durch 3 ist wie viel?	8
F	63 geteilt durch 7 ist wie viel?	9
G	72 geteilt durch 9 ist wie viel?	8
H	48 geteilt durch 8 ist wie viel?	6

2a

(c) GehirnJogging für Kinder - Michael Junga, Braunschweig

I	21 geteilt durch 3 ist wie viel?	7
J	36 geteilt durch 4 ist wie viel?	9
K	42 geteilt durch 6 ist wie viel?	7
L	30 geteilt durch 5 ist wie viel?	6

3a

Ende

A	64 geteilt durch 8 ist wie viel?	8
B	54 geteilt durch 9 ist wie viel?	6
C	18 geteilt durch 2 ist wie viel?	9
D	28 geteilt durch 4 ist wie viel?	7

1b

E	72 geteilt durch 8 ist wie viel?	9
F	18 geteilt durch 3 ist wie viel?	6
G	45 geteilt durch 5 ist wie viel?	9
H	56 geteilt durch 7 ist wie viel?	8

2b

I	21 geteilt durch 3 ist wie viel?	7
J	36 geteilt durch 4 ist wie viel?	9
K	42 geteilt durch 6 ist wie viel?	7
L	30 geteilt durch 5 ist wie viel?	6

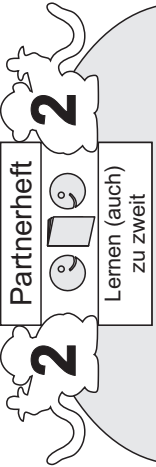
3c

Ende

A

Gemischte Teilaufgaben 2 Heft 2

Lies deinem Partner / deiner Partnerin die 12 Aufgaben auf den folgenden 3 Seiten vor und überprüfe, ob seine / ihre Antworten richtig sind. Drehe anschließend das Heft um und lass dir dann von deinem Partner / deiner Partnerin die anderen 12 Aufgaben vorlesen.



A Wie viel ist 30 geteilt durch 6?	5
B Wie viel ist 42 geteilt durch 7?	6
C Wie viel ist 36 geteilt durch 9?	4
D Wie viel ist 21 geteilt durch 7?	3

1a



Gemischte Teilaufgaben 2 Heft 2

Lies deinem Partner / deiner Partnerin die 12 Aufgaben auf den folgenden 3 Seiten vor und überprüfe, ob seine / ihre Antworten richtig sind. Drehe anschließend das Heft um und lass dir dann von deinem Partner / deiner Partnerin die anderen 12 Aufgaben vorlesen.

B

E Wie viel ist 48 geteilt durch 6?	8
F Wie viel ist 72 geteilt durch 8?	9
G Wie viel ist 63 geteilt durch 9?	7
H Wie viel ist 24 geteilt durch 8?	3

2a

A Wie viel ist 32 geteilt durch 8?	4
B Wie viel ist 63 geteilt durch 7?	9
C Wie viel ist 42 geteilt durch 6?	7
D Wie viel ist 14 geteilt durch 7?	2

1b

E Wie viel ist 56 geteilt durch 8?	7
F Wie viel ist 45 geteilt durch 9?	5
G Wie viel ist 18 geteilt durch 6?	3
H Wie viel ist 72 geteilt durch 9?	8

2b

I Wie viel ist 56 geteilt durch 7?	8
J Wie viel ist 16 geteilt durch 8?	2
K Wie viel ist 90 geteilt durch 10?	9
L Wie viel ist 24 geteilt durch 6?	4

3a

Ende

3	Wie viel ist 01 durch 1 geteilt?	I
6	Wie viel ist 9 durch 3 geteilt?	J
2	Wie viel ist 6 durch 3 geteilt?	K
4	Wie viel ist 28 durch 7 geteilt?	L

9c

A

Lies deinem Partner / deiner Partnerin die 12 Aufgaben auf den folgenden 3 Seiten vor und überprüfe, ob seine / ihre Antworten richtig sind. Drehe anschließend das Heft um und lass dir dann von deinem Partner / deiner Partnerin die anderen 12 Aufgaben vorlesen.

3 Heft 2 Teilaufgaben

Lernen (auch zu zweit)



A 24 geteilt durch wie viel ist 6?	4
B 81 geteilt durch wie viel ist 9?	9
C 16 geteilt durch wie viel ist 8?	2
D 56 geteilt durch wie viel ist 7?	8

1a

Partnerheft
Lernen (auch zu zweit)

Gemischte Teilaufgaben 2 Heft 3

Lies deinem Partner / deiner Partnerin die 12 Aufgaben auf den folgenden 3 Seiten vor und überprüfe, ob seine / ihre Antworten richtig sind. Drehe anschließend das Heft um und lass dir dann von deinem Partner / deiner Partnerin die anderen 12 Aufgaben vorlesen.

B

E 24 geteilt durch wie viel ist 8?	3
F 63 geteilt durch wie viel ist 9?	7
G 72 geteilt durch wie viel ist 8?	9
H 48 geteilt durch wie viel ist 6?	8

2a

A 64 geteilt durch wie viel ist 8?	8
B 54 geteilt durch wie viel ist 6?	9
C 18 geteilt durch wie viel ist 9?	2
D 28 geteilt durch wie viel ist 7?	4

1b

E 18 geteilt durch wie viel ist 6?	3
F 14 geteilt durch wie viel ist 7?	2
G 45 geteilt durch wie viel ist 9?	5
H 56 geteilt durch wie viel ist 8?	7

2b

I 21 geteilt durch wie viel ist 7?	3
J 36 geteilt durch wie viel ist 9?	4
K 42 geteilt durch wie viel ist 7?	6
L 30 geteilt durch wie viel ist 6?	5

3a

Ende

ende

4	? 8 si iei wie v churp geteilt	J
6	? 2 si iei wie v churp geteilt	K
2	? 9 si iei wie v churp geteilt	L
8	? 6 si iei wie v churp geteilt	I

9c

